

財團法人大學入學考試中心基金會

113學年度學科能力測驗試題

社會考科

請於考試開始鈴響起，在答題卷簽名欄位以正楷簽全名

— 作答注意事項 —

考試時間：110分鐘

作答方式：

- 選擇題用 2B 鉛筆在「答題卷」上作答；更正時以橡皮擦擦拭，切勿使用修正帶（液）。
- 除題目另有規定外，非選擇題用筆尖較粗之黑色墨水的筆在「答題卷」上作答；更正時，可以使用修正帶（液）。
- 考生須依上述規定劃記或作答，若未依規定而導致答案難以辨識或評閱時，恐將影響成績。
- 答題卷每人一張，不得要求增補。

選擇題計分方式：

- 單選題：每題有 n 個選項，其中只有一個是正確或最適當的選項。各題答對者，得該題的分數；答錯、未作答或劃記多於一個選項者，該題以零分計算。

第壹部分、選擇題（占 70 分）

說明：第1題至第35題為單選題，每題2分。

1. 我國「紀念日及節日實施辦法」規定，臺灣原住民族各族的歲時祭儀日期，依原住民族委員會的公告，定為法定民俗節日，各該族原住民應予放假。從公民權利與社群資源分配的角度思考，該立法用意與下列何者最為相近？
 - (A)民法規定父母應以書面約定子女要從父姓或母姓
 - (B)國家語言發展法將臺灣手語納入國家語言的範圍
 - (C)國籍法解除限制新住民歸化未滿十年不得參選公職之規定
 - (D)廣播電視法規定無我國國籍者不得為股東或擔任董監事職務
2. 某甲未婚無子女，僅有一兄長，父母過世後，仍繼續與兄嫂及姪兒姪女共 5 人同住。其兄過世後，甲善待嫂嫂，視姪兒姪女如己出，長年承擔其生活費用。如甲亦不幸身故，且生前未留遺囑，依我國民法規定，下列何者會是甲之遺產的繼承情形？
 - (A)無法定繼承人且無遺囑故遺產歸國有
 - (B)由其血親卑親屬姪兒與姪女共同繼承
 - (C)因其兄已逝故由姪兒與姪女代位繼承
 - (D)其嫂及姪兒姪女應繼分各為三分之一
3. 小宜在書上讀到一段資料：「十七世紀以後，咖啡風行歐洲，帶動咖啡消費風氣，使之成為大眾化飲料，歐洲各國其後也開始在殖民地大量種植咖啡。」依據此段歷史敘述，小宜推斷當時的咖啡市場價格應該會下跌。依市場分析，其推論之依據應為下列何者？
 - (A)咖啡已經成為大眾化飲品，消費市場便容易發生短缺
 - (B)咖啡消費需求增加，但殖民地大量種植供給增加更大
 - (C)歐洲各國在殖民地種植咖啡後，同步刺激了消費成長
 - (D)政府預期咖啡價格將有大波動，採取了價格管制政策
4. 十七世紀荷蘭人來臺後，西班牙官員的報告提到：「荷蘭與日本帶給我們極大的損失，如去年荷蘭人擄獲一艘我國船隻，船上載著大量銀兩。……我建議在臺灣的另一個港口取得據點，便可將荷蘭人逐出他們的現居地。如果國王能在那裡建一商館，將使我們的根據地回復舊時榮光。」報告中「另一個港口」和「根據地」分別是指：
 - (A)打狗、澳門
 - (B)基隆、馬尼拉
 - (C)安平、麻六甲
 - (D)淡水、巴達維亞
5. 在歷史課程中，某生找到一份有關南宋繁華城市的資料：城中的民家緊鄰壕溝，甚至跨溝造屋而居，人們多將垃圾、穢物等丟棄溝中，不僅處處汙穢潮濕，偏街窄巷的氣味更讓人掩鼻難耐。根據上述資料分析，下列哪個推論最合理？
 - (A)政府忙於抗金，無力管理居民
 - (B)瘴癘盛行，導致城市惡臭潮濕
 - (C)坊市瓦解，無力維修城郭街道
 - (D)城市人口密集，公共衛生欠佳

6. 美國前國防部長檢討越戰失利，指出：「美國錯以為當地人會為自由民主而戰，我們以為好的，對越南人而言，未必一定是好的，這反映我們對當地歷史、文化、政治的無知。我們又不肯承認現代軍事科技在面對北越陣營士氣高昂時，仍有力不從心之處。」他認為美國的錯誤最主要是：
- (A)美國出兵越南不符合國家利益 (B)美國軍事科技的能力有侷限性
(C)越南因信奉共產主義而反民主 (D)忽略越南人民的民族獨立意志
7. 某生進行探究學習時，根據明代《寧波府志》的資料，整理出 1522 至 1542 年間鄞縣等地的人口資料（表 1）。比對史書記載，發現此時期該地區並無大的天災或戰亂，按理戶數和人口數應會增加，但實則不然。針對上述現象，以下哪個解釋最合理？

表 1

縣	嘉靖 1 年（1522）		嘉靖 11 年（1532）		嘉靖 21 年（1542）	
	戶數	人口數	戶數	人口數	戶數	人口數
鄞縣	58,345	193,380	58,350	193,385	58,355	193,395
慈溪	21,000	37,525	19,300	32,501	18,732	27,455
定海	12,517	37,450	13,026	38,808	14,017	38,701
象山	3,802	17,812	3,802	17,812	3,802	17,812

- (A)明代簡化賦役為按土地人丁徵銀，官員不再精算戶、口數
(B)當地官員為維持轄下治安，強制將新增加的人口遷移他處
(C)當地鄰近海口，大量人民搭乘海船前往遼東地區開墾荒地
(D)明代實施海禁，當地由於海盜猖獗，政府乃限制移民進入
8. 學者分析歐洲某一時期某地 600 名社會菁英的職業類別及其家庭背景，如圖 1、圖 2 所示。這種情況最可能出現於下列何時、何地？

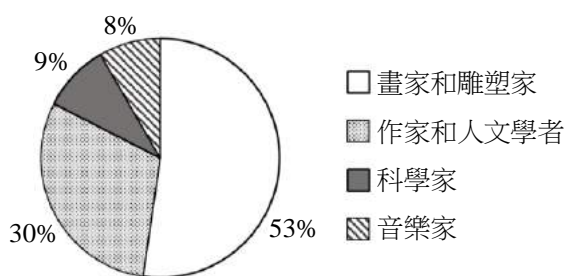


圖 1

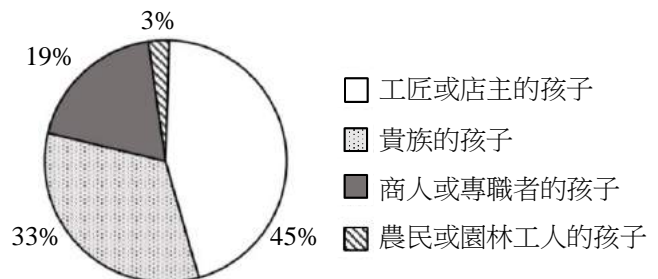


圖 2

- (A)西元前一世紀，亞歷山卓 (B)西元十一世紀，拜占庭
(C)西元十五世紀，義大利 (D)西元十九世紀，日耳曼

9. 為開發山林資源，日治前期延續清代臺灣山區的隘防政策，以防堵原住民。根據表 2 呈現的官隘與民隘人數變化，可說明日治前期隘防政策的哪種發展趨勢？

表 2

時間	隘勇人數		
	官隘	民隘	合計
1895	--	568	568
1897	159	437	596
1903	3,054	0	3,054

- (A)官方僱用平埔族人防禦 (B)山區防禦漸由官方主導
(C)從武力鎮壓到安撫教化 (D)山區居民漸被官方撤離
10. 1960 年美國總統候選人尼克森表示：中國共產黨聲明，攻擊沿海小島只是拿下臺灣的前奏。一旦中共發動對臺灣的攻擊，美國將站在盟友這邊，如同對歐洲某個城市的支持一樣。他說的沿海小島和歐洲城市分別指：
- (A)金門、柏林 (B)大陳、倫敦
(C)澎湖、巴黎 (D)馬祖、華沙
11. 某本歷史教科書在最後一節「未來的世界」中有如下結論：「國民黨領導的國民革命是世界革命的準繩，三民主義將取代帝國主義和社會主義，成為領導人類建立大同世界的普遍理念，中國對於這一目標的實現負有不可推卸的責任。」這最可能是何時、何地的教科書？
- (A)1910年代初的北京 (B)1930年代初的上海
(C)1960年代末的南京 (D)1990年代末的香港
12. 日本某位天皇在位期間，曾將國有土地分授給人民，並規定不得買賣，死後必須歸還政府；同時，政府也向人民徵收穀物、布疋，以及要求貢納各鄉土的特產。上述措施，最可能受到中國哪個制度的影響？
- (A)三國戶調制 (B)西晉占田制 (C)唐代租庸調法 (D)明代一條鞭法
13. 亞洲某處沿海寺廟的建廟碑文寫道：「……崇祀聖母神像，我唐人所共建也。自嘉慶二十三年（1818 年），英吏斯臨，新闢是地，……謂可為商賈聚集之區。……數年之間，遂成一大都會。我唐人由內地帆海而來，經商茲土，惟賴聖母慈航。」從碑文判斷，此寺廟最可能的地點是：
- (A)新加坡 (B)雅加達 (C)馬尼拉 (D)長崎
14. 日本大阪西北方的「寶塚市」，為知名觀光旅遊勝地。遊客可在榮町的寶塚大劇場觀賞東西方歷史劇表演，在湯本町的寶塚溫泉泡湯，參訪市郊紫雲山以祈求安產、護佑嬰兒聞名的佛寺中山寺，參觀武庫川町的手塚治虫漫畫紀念館。上述哪個地方的景點，最能說明東亞文化圈的擴散現象？
- (A)榮町 (B)湯本町 (C)紫雲山 (D)武庫川町

15. 北宋末年有詩云：「泉州人稠山谷瘠，雖欲就耕無地辟，州南有海浩無窮，每歲造舟通異域。」該詩最可能說明當時泉州具有下列哪種社經發展特色？
- (A)生產技術革新，促使沿岸漁業產量提升，居民財富得以增加
(B)土地贍養力低，人們多前往臺灣從事墾殖，在異鄉建立聚落
(C)產業升級快速，從事手工業以增加附加價值，提高人均收入
(D)人口壓力過重，居民透過對外貿易創造利潤，彌補家鄉生計
16. 在 COVID-19 疫情期間，社會上開始出現網購蔬菜箱的風潮。在地小農將自身生產的多樣蔬果放入蔬菜箱透過宅配到消費者手上，帶來更多的利潤。然而此情況卻可能阻礙下列哪種農業發展現象？
- (A)精緻農業 (B)產銷履歷 (C)智慧農業 (D)農業專業化
17. 某同學小論文探究臺灣某茶鄉的產業發展，採集到具有地方特色的閩南語「相褒歌」：「透早（清晨）出門上茶山，冷風吹來會畏寒（感到寒冷）。親像（好比）孤鳥揣（找）無伴，怎樣放我會孤單。」當地種茶事業的發達與 1860 年代「臺灣開港」有密切關係，1860 至 1960 年代也是「相褒歌」最流行的期間。該小論文研究區域最可能位於下列何地？
- (A)新北市石碇區烏塗窟 (B)新竹縣北埔鄉六份壠
(C)南投縣竹山鎮杉林溪 (D)嘉義縣阿里山鄉樂野
18. 臺灣部分村落常在四周外緣設置東、西、南、北、中等五營的小廟，以彰顯守護的村落範圍，並象徵能避開災禍侵擾。照片 1 為某村落五營中的兩座小廟，其對聯呈現該村落常面臨的自然災害；若自然災害與自然環境有關，而地名可顯示當地自然環境特徵，這兩座小廟最可能位於下列哪組地名所在村落的外緣？



照片 1

- (A)大潭、後塹仔 (B)崁頂、馬頭山
(C)東澳、烏石鼻 (D)大坪頂、松柏崙

19. 研究指出，某自然景觀帶廣布泥炭地的重要原因之一，是該景觀帶具有終年潮濕積水的環境；而該景觀帶若進行大規模開採礦物、石油，或持續焚林種植油棕樹等作物時，將可能導致泥炭地乾涸，甚至消失，促使泥炭繼續分解，釋放大量二氧化碳至大氣中。為防患未然，研究者對位於該景觀帶的國家進行分析，最可能歸納出這些國家大多具有下列哪項社會經濟發展特色？
- (A) 居民組成以穆斯林為主，但受歐美干涉內政影響，國內宗教衝突頻仍
(B) 政府以都市工作為誘因，吸引鄉村貧民移入，間接促使世界都市成形
(C) 多採出口擴張經濟策略，但易受國際市場競爭影響，貿易額起伏量大
(D) 受殖民地式經濟結構影響，國內生產毛額雖高，但國民所得往往偏低

20. 地球上有袋類動物起源於北美洲，目前主要分布在澳洲，另外南美洲亦有少數分布，其棲地廣闊。關於澳洲有袋類物種遷移路線之一，學界有不同觀點，有的主張：早期地球有兩塊大陸，其中之一為岡瓦納大陸，有袋類在該大陸內部遷移，等到該大陸分裂成現今的數個大洲後，由於澳洲地理位置的特性，才使它成為絕大多數有袋類分布區。至於在亞洲、非洲發現的有袋類化石，則與歐洲的物種關係較為密切，與澳洲有袋類化石關係較遠。圖 3 為岡瓦納大陸復原圖，圖中哪條物種遷移路線，最符合上述學界的觀點？

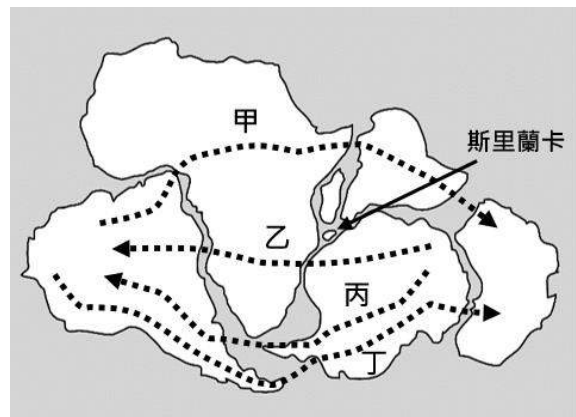


圖 3

- (A) 甲 (B) 乙 (C) 丙 (D) 丁

21-22 為題組

曾有大學校長表示：從事高等科學研究的科學家中，男性比女性有更高的占比，這是因為在數理能力上，男性比女性有先天優勢，其成就也較大。此論點引發強烈抗議，反對者認為該校長忽略了女性要成為科學家，或女性科學家要持續發展學術生涯時，常面對難以打破的文化刻板印象，以及社會規範的阻礙。請問：

21. 該校長認為男生比女生有優勢的觀點，若純粹以經濟學觀點來理解，最接近下列哪個概念的意涵？
- (A) 人力資本 (B) 比較利益 (C) 市場機能 (D) 絕對利益
22. 假定下列各敘述在現實世界中都成立，如果要指出該校長上述觀點有誤，下列何者可構成反駁校長的充分理由？
- (A) 一般人對於男性與女性科學家的尊敬與信任程度，並沒有差異
(B) 中學老師在評量學生的數理成績時，會出現高估男學生的偏誤
(C) 男女學生在各個學習階段的數理能力表現相當，幾乎沒有差異
(D) 很多女性科學家表示，在學生階段曾受到女性數理老師的啟蒙

23-26 為題組

在 COVID-19 疫情嚴峻時期，中央流行疫情指揮中心經常召開記者會，報告疫情數據，說明防疫政策與醫療資源概況等。期間有數項防疫措施如下：

- 一、依規定，應居家隔离的民眾若違規外出被查獲，將處以最高 100 萬罰鍰。
- 二、為確保醫療量能，政府發布實施如限制醫事人員出國等各種緊急規定與禁令。
- 三、立法院快速通過並由總統公布《嚴重特殊傳染性肺炎防治及紓困振興特別條例》，授權中央流行疫情指揮中心指揮官，為防治疫情需要，得實施必要之應變措施，並溯及在此條例通過前所發布的一些命令，以解決法律爭議。
- 四、因應疫情警戒升級，各級學校停止到校上課，改採線上教學。請問：

23. 如就「民主課責」而言，政府相關首長經常舉行記者會向各界說明疫情，和下列哪項政府定期措施的性質最相近？
- (A) 公布治安狀況，並提出主管機關的因應措施
 - (B) 發布死刑存廢的民意調查數據，供人民參考
 - (C) 公告食品衛生標準，定期邀請學者討論修正
 - (D) 提供健康飲食生活標準，要求各界廣為宣導
24. 立法院迅速通過題文中的特別條例，其為解決之法律爭議與某個法律原則相關。請問該原則與下列哪一敘述中蘊含的法律原則最相近？
- (A) 有論者認為，不禮讓行人者應一律以最高額度罰鍰處罰
 - (B) 大法官釋憲後確定相同性別二人可至戶政機關辦理結婚登記
 - (C) 政府原有補助人民投保防疫險，後以財政困難為理由突然停止補助
 - (D) 學者表示，土地登記規則對人民財產有巨大影響，應從命令升格為法律
25. 「對居家隔离民眾違規外出處以重罰」這項措施，請判斷下列何者最可能衍生對國內生產毛額之影響？
- (A) 部分被隔離民眾擅自出門，購買路邊小吃攤的食物來解饑
 - (B) 政府將民眾違反防疫措施所繳交之罰鍰，轉用於紓困補貼
 - (C) 居家隔离民眾為恢復健康，透過外送平台訂購營養補給品
 - (D) 為排遣時間，被隔離的民眾熱衷於報名國外大學線上課程
26. 學校採線上教學期間，有學者認為此舉將對偏鄉學生的學習品質造成負面影響。該學者持此論點的依據最可能為下列何者？
- (A) 科技發展經常導致社會變遷
 - (B) 科技創新加速時空收斂現象
 - (C) 科技產品的生命週期很短促
 - (D) 科技事物的近用上有所落差

27-28 為題組

大英博物館收藏一件銀製的胡椒罐（照片 2），屬於四世紀某個富有的羅馬家庭所有。這個罐子的高度約 10 公分，外觀像是一位羅馬主婦的半身雕像，設計精巧。圖 4 是四條貿易路線示意圖。請問：



照片 2



圖 4

27. 將胡椒放置在銀製容器中，最可能的原因是：

- (A) 胡椒接觸銀器後會產生化學作用，可以增加香料風味
- (B) 胡椒和銀器都是高價格的物品，人們常用來彰顯身分
- (C) 胡椒可防止食物腐敗，放入貴重容器代表重視其寓意
- (D) 歐洲盛產白銀，人們常用來製作存放各種物品的器皿

28. 圖 4 中，若以羅馬城為中心，羅馬帝國至胡椒產地的主要貿易路線最可能是：

- (A) 甲
- (B) 乙
- (C) 丙
- (D) 丁

29-30 為題組

某生分別從東歐、西歐、南歐、北歐各地區挑選一個國家，蒐集相關資料，進行某項主題的探究，表 3 是 2022 年這些國家的三項經濟發展資料。已知 2022 年歐盟平均每人國內生產毛額為 37,150 美元。請問：

表 3

國家	國內生產毛額 (10 億美元)	平均每人國內生 產毛額 (美元)	主要出口項目
甲	89.0	13,772	電氣機械設備、礦物燃料、礦物油 機械設備等
乙	4,072.2	48,432	機械和運輸設備、醫學和藥品相關、 航太產品和電腦設備等
丙	1,397.5	29,350	機械和運輸設備、食品飲料和香菸、 化學品等
丁	585.9	55,873	機械和運輸設備、化學品和相關產 品等

29. 表 3 的甲、乙、丙、丁四個國家，最可能分別位在下圖中的何處？

(A)



(B)



(C)



(D)



30. 根據表 3，該生從歐盟各區域成員國之間的經濟發展狀況，最可能進行下列哪項主題的探究？

(A) 歐盟製造業發展的困境

(B) 歐盟向東擴散趨勢分析

(C) 歐盟政策整合面臨的挑戰

(D) 歐盟國家不平等交換現象

31-32 為題組

某年 9 月 21 日夜間，臺灣某河川上游降下大雨。表 4 是 9 月 22 日 15:00 該河川沿岸各觀測站測量的水位資料，以及降水之後最高水位的發生日期與時間。請問：

表 4

觀測站	河川水面距堤防頂部的高差 (m)	最高水位發生日期、時間
甲	9.8	09/22 01:20
乙	7.3	09/22 00:40
丙	7.4	09/21 23:20
丁	8.8	09/22 12:40
戊	16.3	09/21 23:50

31. 造成該河川上游降水的主要原因，最可能是下列何者？

(A) 颱風外圍環流影響

(B) 北方強烈冷鋒過境

(C) 熱力對流旺盛引起

(D) 滯留鋒面停留盤旋

32. 這五個觀測站依照上游至下游的排列順序，最可能為下列何者？

(A) 乙丙丁甲戊

(B) 丙戊乙甲丁

(C) 丁甲乙戊丙

(D) 戊甲丁丙乙

33-35 為題組

2022 年 2 月俄羅斯軍隊入侵烏克蘭。俄國總統普丁以本國的立場，主張烏克蘭原本就屬於俄國，因此他要拿回烏克蘭。但許多學者表示，普丁的說法並不符合史實。

當烏克蘭軍隊收復曾遭俄軍占領的布查鎮（Bucha）後，隨其進入鎮內的英、美國際媒體立即報導了俄軍占領時曾屠殺平民的新聞，呈現平民屍體倒臥路旁的照片、影片，並訪談了劫後餘生的當地居民，作為報導的一部分。俄羅斯的國營媒體立即全盤否認，宣稱俄軍從未對平民攻擊，並指控烏軍偽造平民死於路旁的影像。其後英、美媒體指出，這些影像在俄軍占領期間即已在社群網站上張貼過，且衛星影像也顯示相同時間、位置的平民屍體。請問：

33. 以下何者最能從歷史的角度，反駁上述俄羅斯對烏克蘭發動侵略的理由？
- (A) 烏克蘭是俄羅斯歷史、文化不可分割的一部分，兩國屬於同一民族
 - (B) 現代烏克蘭是由俄國共產主義者創造的國家，不是一個真正的國家
 - (C) 烏克蘭人認定，九世紀立國的基輔羅斯國是其歷史文化發展的源頭
 - (D) 應以俄羅斯文化為基礎聯合東斯拉夫民族，共創單一的俄羅斯民族
34. 針對俄羅斯國營媒體和英美國際媒體間出現重大訊息落差的情形，若從媒體識讀的角度出發，下列何者為最關鍵的提問，可以協助我們判斷訊息真偽？
- (A) 報導者的國籍背景及媒體機構的所有權歸屬為何？
 - (B) 報導內容是否提供清晰可辨識的圖像或影像證據？
 - (C) 新聞媒體是否屬於高知名度及公信力的國際媒體？
 - (D) 報導者是否提出充分且符合因果時序的佐證支持？
35. 某生欲取得衛星影像計算當時倒臥路旁的受害者人數，考量衛星解析度與拍攝到同地點的重返週期，下列哪個衛星最適合？
- (A) M 衛星，重返週期 1 天，解析度 250 公尺
 - (B) W 衛星，重返週期 4.5 天，解析度 0.3 公尺
 - (C) S 衛星，重返週期 5 天，解析度 10 公尺
 - (D) L 衛星，重返週期 16 天，解析度 30 公尺

第貳部分、混合題或非選擇題（占 74 分）

說明：本部分共有9題組，單選題每題2分，非選擇題配分標於題末。限在答題卷標示題號的作答區內作答。

選擇題與「非選擇題作圖部分」使用 2B 鉛筆作答，更正時以橡皮擦擦拭，切勿使用修正帶（液）。非選擇題請由左而右橫式書寫，並依題目指示作答。

36-38 為題組

1988 年，臺灣仍處於《動員戡亂時期臨時條款》下的緊急狀態，人民基本權利受到嚴格限制。而各中央民意機構仍有過半以上代表不必改選，長年由 1940 年代大陸各省市選出者擔任，與臺灣社會脫節。

為平衡對外貿易逆差，當時的行政部門擬開放國外農產品進口，但有農民認為此舉嚴重衝擊農民生計，因而在相關提案送立法院審議時，部分農民集結臺北抗議，這在當時屬於體制外的抗爭。抗議過程原本平和，途中卻發生警民推擠、逐漸失序，當警察提高鎮壓強度，部分群眾也予以還擊，在混亂與衝突中民眾遭逮捕約 90 餘人。

其後，檢方以「預藏器具進行暴力行動」等罪名起訴被捕群眾，即便有現場紀錄片拍攝者、學者、人權律師等舉出事證澄清，認為不存在檢方所稱「預謀」，但未獲採信，法院最後判決其中 19 人有罪。定罪的一個重要關鍵，即為檢方舉證其中有人預謀運送石塊、鐵棍以攻擊警方。

至 2022 年，上述案件，被「促進轉型正義委員會」認定為冤案，屬於威權體制下「司法不法」的受害者而獲得平反。請問：

36. 依題文，此農民抗議起因於政府農產品政策對農民經濟福祉的影響。假設圖 5 為國內農產品市場供需的兩種情形，請判斷前述情境適用甲圖或乙圖，並從經濟福祉的角度分析可能的影響為何？

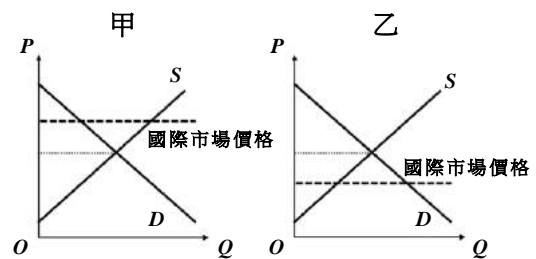


圖 5

- (A) 適用甲圖，開放進口後，消費者剩餘會增加
- (B) 適用甲圖，開放進口後，生產者剩餘會減少
- (C) 適用乙圖，開放進口後，消費者剩餘會減少
- (D) 適用乙圖，開放進口後，生產者剩餘會減少

37. 如果要為那些可能被冤枉起訴、定罪的民眾爭取平反，以下觀點何者正確？

- (A) 如果司法權無法對檢警違失進行有效的監督制衡，正義恐將難以伸張
- (B) 即使國家處於法律定義的緊急狀態，檢警亦不得限制人民的基本人權
- (C) 若事件屬於預謀，而且群眾確實使用暴力，才不受正當法律程序保障
- (D) 集會遊行為人民重要憲法權利，即使動員戡亂時期檢警亦不得限制之

38. 依題文中農民抗議的發生背景，有學者認為反映了當時臺灣有重要的政治體制問題，請判斷該學者所指政治體制問題為何？請於答題卷左欄勾選一項最符合學者觀點的選項（1分，左欄勾選錯誤或未勾選，本題不予計分），並於右欄說明判斷理由（2分，20字內）。

重要政治體制問題	說明判斷理由
<input type="checkbox"/> 立法院未能全面改選	
<input type="checkbox"/> 司法權獨大不受監督	
<input type="checkbox"/> 行政權受制於立法權	

39-40 為題組

日治時期在臺北盆地南緣、斗六丘陵和東臺灣的瑞穗、泰源等地已有咖啡的栽種。東臺灣的咖啡種植，起因該區為總督府熱帶栽培業和軍需作物的生產試驗地，故此地很早就擁有棉花、苧麻、金雞納樹等作物的栽植，屬於熱帶栽培業的咖啡自然也成為試驗對象。雖然這些地方至今仍有咖啡種植，但已經無法滿足臺灣近年大量的咖啡消費需求。

隨著咖啡消費人口增加，小型咖啡店成為青年創業的熱門選擇之一，某位青年創業者利用表 5 的資訊，進行商業區位條件分析，想要評估哪個地區最適合創業開設咖啡廳。請問：

表 5

區位條件 地區	至火車站 直線距離 (km)	人口密度 (人/km ²)	區域內 咖啡店數量 (家)	店面 平均租金 (元/坪)
甲	5	18,949	59	2,300
乙	3	23,215	57	3,500

39. 就日治時期臺灣的歷史和環境特性來看，東臺灣被總督府視為熱帶栽培業和軍需作物的生產試驗地，最大的考量為何？
 (A)有充足的日本和臺灣移民勞動力 (B)有廣大未開墾且容易取得的荒地
 (C)有熟悉熱帶作物種植的原住民族 (D)有充裕的水源和廣闊的平原地形
40. 文中創業者僅根據表 5 資訊，且暫不考慮其他因素，判斷甲區較乙區具有區位優勢。該創業者所謂的區位優勢，最可能是指表 5 四個條件中的何者？（1分）並以商闖與商品圈的角度，寫出判斷理由（3分，28字內）。

區位優勢條件	判斷理由
	因為

41-43 為題組

某校社會領域課程進行跨科的問題探究學習時，某小組蒐集到三則有關印度歷史解釋的資料：

資料甲：古老的印度教曾經創造出偉大的印度文明，但隨著十三世紀初期伊斯蘭統治者入侵，印度文明從此僵化，政治體制淪為專制君主統治。直到近代，英國殖民者帶領印度進入另一個階段，統治者開明領導、科學進步，以及促成印度獨立。

資料乙：穆斯林的統治，並未導致印度落後，尤其蒙兀兒帝國在商業、文化、社會方面的進步，在十七世紀達到頂點。英國在殖民時期的建設，其實是建立在蒙兀兒帝國的基礎之上。

資料丙：印度曾歷經如歐洲中世紀的黑暗時代：穆斯林入侵，北方地區不斷遭到破壞；朝代轉換、戰爭與十八世紀無政府狀態。二十世紀的印度花費許多心力恢復自我。

請問：

41. 根據資料甲，在印度獨立前，印度歷史可依時間先後分為哪幾個時期？
(A) 宗教統治時期→專制統治時期→民主自由時期
(B) 共產社會時期→封建制度時期→資本主義時期
(C) 神權統治時期→王權統治時期→帝國統治時期
(D) 印度教時期→伊斯蘭統治時期→英國殖民時期
42. 透過資料甲、乙的比較，最適合進行下列哪個主題的探討？
(A) 全球化經濟的發展史
(B) 文化異同與其發展機會
(C) 南方區域的獨立運動
(D) 區域互賴與不平等交換
43. 上述三則資料中，對於自十三世紀到十八世紀初印度統治者的歷史解釋，哪則資料與另外兩則的觀點不同？（2分）其不同之處為何？（2分，20字內）

資料名稱	不同之處

44-46 為題組

英國的半島東方輪船公司在政府扶植下，於 1850 年開通英國－伊比利半島－印度－東南亞－中國上海－日本長崎、橫濱的航路，擁有多項運輸特權。除英國以外，西方也有一些國家發展同樣的歐亞航路模式。日本於明治時期開始仿效西方國家，1890 年代扶植日本郵船公司，並於 1896 年開通日本到歐洲的航路，與英、法輪船公司競爭歐亞航路營運。

有學者認為，明治時期日本的政治變革，建立君主憲政、推動議會政治等措施，有其進步面向。但在過程中，仍禁止人民組織政黨，規定僅有 25 歲以上且納稅達一定額度的男性才能享有投票選舉權，也禁止基督教的傳播。請問：

44. 日本在明治維新前期，仿效西方作法，大力扶植日本郵船公司開闢歐亞航路，其目的最可能是：
- (A)建設大東亞共榮圈勢力範圍
 - (B)推動海外殖民紓解人口壓力
 - (C)發展商業貿易增加國家財富
 - (D)爭奪東南亞與印度半島資源
45. 1850 年開通的英國至中國上海航路，在不經陸路轉運的情況下，其中間航點依序最可能是下列何者？
- (A)美國紐約－美國紐奧良－巴拿馬運河－日本長崎
 - (B)南非好望角－巽他海峽－印尼雅加達－菲律賓馬尼拉
 - (C)南非好望角－印度孟買－馬來亞檳城－麻六甲海峽－新加坡
 - (D)法國馬賽－蘇伊士運河－印度孟買－馬來亞檳城－麻六甲海峽
46. 某同學從題文中發現，明治時期的新憲，對當時日本的公民權有所限制，因此製作下表，但仍有三個項目未完成，請協助其填入最適合的公民權或事證以完成表格。請在答題卷左欄填入公民權（1 分，4 字內），並在右欄填入事證（一項 1 分，共二項，從上而下分別為 20 字內、10 字內）。（公民權與事證連結不合理則該項不計分）

受限制的公民權		該項公民權受新憲限制的事證
1.	宗教自由	禁止基督教的傳播
2.	參政權或選舉投票權	(20 字內)
3.	(4 字內)	限制僅男性有投票權，女性無
4.	結社自由	(10 字內)

47-50 為題組

某部小說寫道：某彭姓長工偕同妻兒及童養媳燈妹，前往番仔林墾殖。燈妹原是棄嬰，被收養後再轉賣給彭家，預備長大後和彭家兒子拜堂為夫妻。番仔林是原住民族生活空間，漢人進入採集山產或墾殖常遭原住民激烈抵抗。彭家入墾前三年，政府在該地區設撫墾區、番學堂，並布置隘寮僱請隘勇守衛，但仍時有原、漢衝突。彭家進入番仔林後，一家大小在草寮住處周圍的緩坡地伐除茅草和雜木，除林後的緩坡地，首先撿除較大石塊、栽種甘藷，然後在部分山泉較充足的地方，逐步將「甘藷田剷平，築成梯田，引水灌溉種植水稻。」漸漸在番仔林建立起新的家園。請問：

47. 燈妹成為彭家童養媳的過程，在現代社會已不容許，應是基於下列哪項價值觀念變遷？
- (A) 優生觀念下禁近親婚配，故溯及禁止童養媳習俗
(B) 晚近以來重視兒少表意權，故不許收養年幼嬰孩
(C) 性別平等運動推動平權理念，不再允許販賣女嬰
(D) 重視婚姻自由，不許父母指定子女未來婚配對象
48. 題文中「甘藷田……水稻」內容，若以農業系統圖的方式呈現，最可能屬於系統中的哪個步驟？
- (A) 回饋 (B) 投入 (C) 產出 (D) 過程
49. 依據題文，該戶人家在部分土地改種水稻的行為，考慮自然環境資源與作物選擇因素，並用機會成本的概念加以分析，其理由為何？請將答案寫在答題卷的表格中（3分，30字內）。

分析之理由

50. 題文描述的時間場景，最可能出現在清代臺灣哪個措施或政策之後？（2分）判斷的依據為何？（2分）

措施或政策	判斷依據

51-53 為題組

土耳其領土橫跨歐、亞兩大陸，被稱為文明的十字路口，五千年來歷經波斯、希臘、羅馬、拜占庭、鄂圖曼和土耳其共和國等的治理。由於地理位置與歷史發展的影響，土耳其在區域歸屬上，始終擺盪於「西方（歐洲）」與「東方（西亞）」之間；雖然早於 1952 年即加入北大西洋公約組織，但近年來幾經爭取，迄今仍未成為歐盟的正式會員國。2017 年土耳其通過修憲公投，將憲政體制由議會內閣制改為總統制，總統由普選產生且擁有更大行政權，由總統組成政府並任免各部會首長。



圖 6

俄烏戰爭期間，多國對俄羅斯實施經濟制裁，禁止俄國石油、天然氣等能源的進口。圖 6 是俄羅斯、烏克蘭位置圖。土耳其國內的反對黨，亦提出封鎖俄羅斯交通線的制裁方案，但執政黨基於該國能源高度依賴俄國，表明不會加入制裁俄羅斯的行列。請問：

51. 伊斯坦堡因歷史發展因素，擁有不同時代的古文物。經由歷次古建築遺址考古，出土了以下四件文物：
- 甲、有希臘文福音故事的馬賽克磚 乙、鑄有君士坦丁皇帝頭像的金幣
丙、書寫於羊皮紙上的古蘭經殘頁 丁、描繪特洛伊戰爭的古希臘陶瓶
- 依照它們所代表的時代，其先後順序應是：
- (A)甲乙丙丁 (B)乙丁甲丙 (C)丙甲乙丁 (D)丁乙甲丙
52. 若僅依據題文並從民主國家的政府體制特性加以判斷，下列何者最可能符合土耳其修憲後的政治運作？
- (A)總統所屬政黨若未獲國會過半席次，須組聯合政府
(B)總統必須到國會說明外交政策，以表示對國會負責
(C)總統執行各項政策的預算，仍須獲得國會審議通過
(D)總統施政不佳時，國會可提出不信任案促使其下台
53. 在答題卷中標示出土耳其的國家位置（1 分），並寫出文中該國反對黨若要阻絕俄羅斯海運，從地理位置面向提出制裁方案的主要做法（1 分），且說明該做法將使俄羅斯對外交通所帶來的具體影響。【須明確寫出具體受影響的海域名稱】（2 分）

以 2B 鉛筆打「✓」方式標示出土耳其位置	主要做法	對俄羅斯影響
	土國若將	將使俄國船隻無法從

54-57 為題組

位於大西洋西側加勒比海的某島西部，曾是法國盛產蔗糖的殖民地，該地的人口除歐洲白人、原住民與黑奴之外，尚有法國男性在當地所生的混血人種，他們也可受教育、擁有財產及黑奴，是所謂「有色自由人」。

法國大革命初期，新政府依《人權宣言》主張公民在法律之前一律平等，但該地居民的公民資格並非馬上就取得。歐洲人種植園主反對用公民平等的原則來治理，爭取成立自治政府。1791年該地爆發奴隸反抗事件，法國政府擔心島嶼動盪會被保王派或英國、西班牙乘虛而入，急需「有色自由人」為革命盟友，故宣布他們為法國公民。緊接著法國政府又發現，若沒有奴隸的支持，也無法控制該地的族群衝突，因此1793年釋放當地奴隸並宣布他們為公民。

但該地仍持續抗爭，追求獨立，1804年終於建國，然因主權爭議，直到十九世紀中期才獲得大多數國家承認。請問：

54. 圖 7 是四個島嶼的位置圖。題文中「加勒比海的某島西部」最可能位於圖中的哪個島嶼？

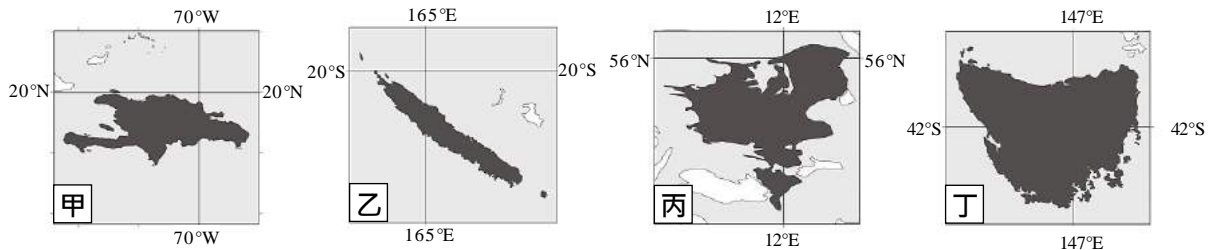


圖 7

- (A)甲 (B)乙 (C)丙 (D)丁

55. 題文中「加勒比海的某島西部」與法國之間的商品往來，最可能是形成下列哪種現象的重要背景？

- (A)基於經濟誘因原則，該地生產的甘蔗主要送往法國加工製成精糖
(B)屬於世界體系邊陲區的該地，獨立後國民所得有逐年減少的趨勢
(C)民主化導致該地的蔗糖勞工短缺，製糖業者承擔較高的外部成本
(D)核心國擴散效應對該地影響有限，國內產業仍多受跨國企業掌控

56. 如題文所述，推論在十九世紀初期時，加勒比海的某島西部人民如果前往其他國家工作，最可能因其國家的國際處境而遭遇下列哪項情況？

- (A)必須遵守在地國家法律 (B)必須歸化取得其他國籍
(C)無法使用母國原有貨幣 (D)無法獲得母國使館協助

57. 題文中法國政府陸續接納二群體成為公民的作為，有其目的考量。請判斷下列公民資格相關論述中何者最適合解釋其目的，在答題卷左欄勾選最適合之解釋（2分，左欄勾選錯誤或未勾選，本題不予計分），並在右欄依據題文寫出支持此項解釋的資訊（1分，15字內）。

最適合之解釋	支持此解釋之題文資訊
<input type="checkbox"/> 革命有助於推動不利群體的公民身分保障，落實自由民主理念 <input type="checkbox"/> 執政者因應政治衝突的作為，往往會犧牲邊緣群體的公民權利 <input type="checkbox"/> 公民權的具體權利內涵，會因族群、階級身分不同而有所不同 <input type="checkbox"/> 落實平等理念的公民身分擴張政策，可能來自於現實利益考量	

58-60 為題組

日本治臺後，將女子教育納入學制系統，但受到傳統「女子無才便是德」的觀念限制，相較於臺灣男學生與日籍女學生，臺灣女童受教育的仍屬少數。初等女子教育規劃的課程內容，以日語、裁縫科及家政科等課程為主。女子中等學校雖早在 1897 年某都市就成立「國語學校第一附屬學校女子分校」，但直到 1920 年代後各地才陸續設立。女子就學率提升之後，開始有女醫師、看護婦、助產士、女教員等專門或半專門職業人士。不過，有學者指出，當時女性仍高度集中於家政和照顧類有關的職業，而非平均分布於各職業類別。請問：

58. 根據題文，日治時期初等女子教育的課程設計理念應為何？
 (A) 為求男女平權而提高女童就學率 (B) 訓練醫師、教員等專門職業人才
 (C) 提供殖民統治所需要之基層人員 (D) 培養具日本女性婦德的賢妻良母
59. 依據題文，對於當時女性職業特色的觀察，最適合用下列哪個概括性敘述來說明？
 (A) 經濟分工產生的性別多元化 (B) 社會規範設定的玻璃天花板
 (C) 社會變遷促成的性別不友善 (D) 性別角色期待造成職業隔離
60. 根據題文，在答題卷中寫出設立第一所女子中等學校的都市（1 分），而選擇設立地點時，往往同時有許多考量。請以地理概念推論，說明該都市被選擇為該校設立地點時的考量依據。【先勾選一項考量概念，再說明對應此概念的考量依據】
 （3 分，25 字內）

學校設立的都市	概念／考量依據	
<input type="checkbox"/> 聚落系統 <input type="checkbox"/> 市場區域 <input type="checkbox"/> 都市機能		因為該都市
		所以第一所女子中等學校會先設在該都市。

61-64 為題組

十九世紀，華人開始大規模移民美國，先後從事開挖金礦、修建鐵路等勞力工作。當時載運華工橫渡太平洋的輪船公司，為了提高利潤而超載，船艙極端擁擠，華工在漫長旅途中，常受非人待遇而死亡，甚至有高達 64% 的死亡率紀錄。即使如此，移民美國的華人仍持續增加。

在鐵路修建告一段落時，又值美國政府立法廢除某項制度後，出現低階勞動力不足的現象，各地華人移工開始進入農、漁、工勞動市場，而白人擔心工作被奪取，薪資被壓抑，針對華人的種族暴力時有所聞。更多的華人陸續聚居到不同的市區，形成各地的「唐人街」族群經濟聚落，其職業與行業特色以經營小生意為主，市場規模小但可互助兼自保。他們赴美時常將妻子留在家中撫養子女、照顧公婆；加上在海外謀生不易，妻子即使來美也不太可能有工作機會。因此，早期唐人街的男性華人，大多是過著類似「光棍」（單身）的生活。

1873 年後美國經濟蕭條，對華人移民的歧視更形加劇。在工會遊說及各州議會的強力支持下，美國國會在 1882 年完成立法、由總統簽署通過《排華法案》，對華人移民入境與取得美國籍都設下嚴格限制，這是美國政府通過的唯一針對移民國籍所設定的歧視性法案。請問：

61. 如果要避免華工在旅途中高死亡率的人道悲劇，從「誘因」的角度思考，下列改善作法中何者相對有效？
- (A) 船公司要求華工在搭船前須先行購買旅行平安險
 - (B) 要求船公司加強對船員進行基本人權的道德教育
 - (C) 依安全抵達目的地的人數比例支付運費給船公司
 - (D) 由船公司要求提高運送費以改善華人的旅程待遇
62. 依據題文，針對美國政府通過《排華法案》的歷史簡述，如果站在民主體制，促進人權與法治的觀點來反思，下列何者是最應該記取的歷史教訓？
- (A) 政府若未能積極幫助各移民群體融入社會，將製造很多衝突
 - (B) 即便過程看起來都合法，但政府也可能訂定歧視性的移民法
 - (C) 政府在制訂移民相關法律或者政策時，應考慮社會接納程度
 - (D) 中央層級的移民法有所不當，地方議會可自行立法予以補救
63. 根據題文所提供的歷史資訊，其對於現代美國洛杉磯的都市發展，最可能帶來下列哪種現象？
- (A) 移民大量遷入，是美國較早進入人口晚期擴張階段的都市
 - (B) 工作機會眾多，成為美國亞裔與拉丁裔等移民主要聚集地
 - (C) 是探索美國多元文化的基地之一，如設有華人在美博物館
 - (D) 成為高科技產業重鎮之一，居民年均所得高於美國平均值
64. 題文中，美國出現低階勞動力不足的現象，和該國立法廢除哪項制度有關？（2 分）此外，早期移民美國的華人，大多過著類似「光棍」（單身）生活的因素為何？（2 分）

	說明
廢除的制度	
過類似光棍生活的因素	