

臺灣警察專科學校 112 學年度專科警員班第 42 期正期學生組新生入學考試歷史與地理科試題

壹、單選題：(一) 30 題均單選題，題號自第 1 題至第 30 題，每題 2 分，計 60 分。

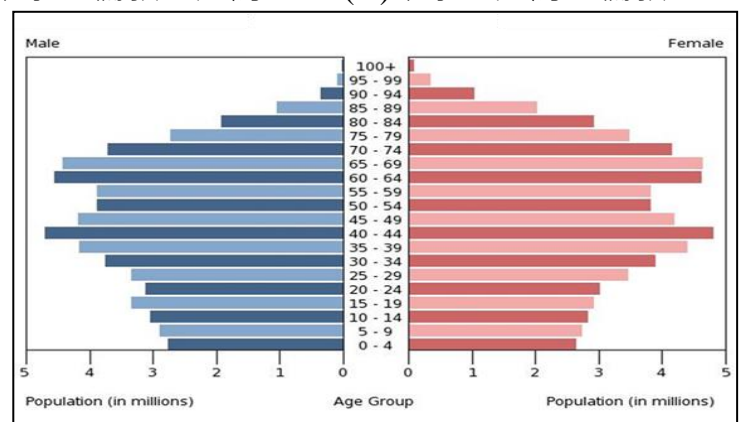
(二) 未作答者不給分，答錯者不倒扣。

(三) 請將正確答案以 **2B** 鉛筆劃記於答案卡內。


准考證號：_____

1. 以下是政治人物在選舉辯論會中所提出的論點：我相信這個政府是由白人組成的，是永遠為了白人與其後代子孫的利益而組成的，我贊成將公民權侷限於白種人，至於黑鬼、印第安人以及其他劣種族群則不應該賦予其公民權。請問：這樣的觀點最可能出現在何時？
(A)十六世紀中的英國 (B)十七世紀末的南非
(C)十八世紀末的法國 (D)十九世紀中的美國。
2. 以下是某位學者對戰爭決策的論點：關於這一決策，存在一些戰略上的正當理由。這場洪水阻止日軍在華北的部隊和長江流域的部隊連成一片，使日軍無法切斷中國軍隊通過武漢的撤退路線。因此，中國軍隊爭取到撤退與在戰區重組的時間，得以繼續抗戰。
請問：這位學者的立場應是偏向哪個政權？
(A)蔣中正領導的國民政府 (B)毛澤東領導的延安政權
(C)溥儀稱帝的滿洲國 (D)昭和天皇的政權。
3. 某件史事爆發後，美國人的反日情緒深刻，當局下達行政命令，賦予國家「因戰爭需求得以限制某些群體自由」之權，使不少日裔美國人被迫離開家園、放棄財產，受到政府監管。請問：上述史事應是指何者？
(A)甲午戰爭 (B)日俄戰爭 (C)中日戰爭 (D)珍珠港事件。
4. 七世紀之後，中國、日本、朝鮮半島、越南北部等地語言雖各自不同，但知識階層卻多使用相同文字作為主要的書寫工具。1930 年代因為東亞局勢的變化，日本、臺灣、朝鮮半島、中國東北等地的上層社會逐漸使用共同語言作為溝通工具。請問：上述七世紀以後相同文字和 1930 年代的共同語言最可能是下列何者？
(A)「相同文字」、「共同語言」分別是漢字與日語 (B)「相同文字」、「共同語言」分別是漢字與漢語
(C)「相同文字」、「共同語言」分別是日文與漢語 (D)「相同文字」、「共同語言」分別是日文與日語。
5. 一份 1920 年的文獻，記錄著當時臺灣的情形：本年二、三月之交，流行性感冒大行於蕃地，蕃人死者頗多。無智生蕃中，有陷迷信者，認為是與他族往來，神降此災厄也，不可不馘首(出草)以謝神。
請問：這份文獻最可能出自何人之手？
(A)長老教會教士馬偕 (B)泰雅族醫生樂信·瓦旦
(C)台灣總督田健治郎 (D)霧峰士紳林獻堂。
6. 十一世紀時，教宗主張：羅馬教會是由上帝一人所建，只有羅馬教宗才能任免主教。教宗的稱號是世界唯一，他可以廢黜皇帝。凡是與羅馬教會不合的人，不能被視為基督教徒。教宗此舉最主要的用意是何者？
(A)確認皇帝是羅馬帝國的領袖 (B)鼓勵日耳曼人成為基督徒
(C)消弭西歐地區的政教衝突 (D)確立羅馬教會崇高的地位。
7. 十七世紀晚期以來，臺灣經常是各政權統治版圖的邊陲地方。至二十世紀中葉，臺灣從地方之一隅轉變成政權的中央政府所在地。請問：造成上述變化的主要因素是什麼？
(A)二次大戰結束後，日本天皇宣布無條件投降 (B)國共內戰後，中華民國政府撤至臺灣
(C)韓戰爆發後，聯合國安理會通過武力制裁案 (D)冷戰時期，蘇聯聯合中共勢力牽制美國。
8. 人類歷史的發展過程中，影響歷史發展轉變或分期的關鍵，往往是重大事件的進行。而歐洲歷史上，哪個事件的發生，象徵中古世界逐漸褪去，並初步展現出理性等現代的價值觀？
(A)文藝復興 (B)宗教改革 (C)科學革命 (D)啟蒙運動。
9. 清乾隆皇帝特別鍾愛進貢的駿馬，並讓一群宮廷畫師以貢馬作為繪畫的主題。這群宮廷畫師擅長細膩、擬真與寫實的手法，他們透過大型畫作，描繪出各種駿馬生動的英姿。這群宮廷畫家最可能的身份是何者？
(A)士紳階層 (B)耶穌會士 (C)豪強富商 (D)佛教僧侶。

10. 臺灣史上，有一群人為傳達無產階級意識形態與革命論的訴求，借用《三字經》的文體，並呼應當時的主張--臺灣話文論，使用臺語寫成「三字集」詩歌作為宣傳品。不過，這些宣傳品不久遭到統治當局取締，籌辦者也遭到逮捕、移送法辦。請問：上述現象應是出現在以下哪個時間？
 (A)1870 年代 (B)1900 年代 (C)1930 年代 (D)1960 年代。
11. 自西元前六世紀起，北方華夏族人陸續遷入江東，帶來中原華夏文化，但江東的住民仍保有自己的文化。四世紀時，中原地區發生巨大動亂，原來居住在洛陽的世家大族舉族南遷。此次遷入的人數眾多，且移民在政治上具有優勢，故對江東文化造成極深的影響。請問：上述四世紀的巨大動亂，最可能是下列何者？
 (A)永嘉之禍 (B)安史之亂 (C)靖康之禍 (D)八國聯軍。
12. 某個政權宣稱「馬丁路德是最偉大的反猶者，他在他的時代對抗猶太人，保護德意志民族」，於是該政權對其國內特定的族群加以迫害、屠殺，此災難被稱為「1938 年十一月屠殺」。請問：此一政權是指何者？
 (A)史達林的蘇聯政府 (B)希特勒的納粹政權 (C)邱吉爾的英國政府 (D)貝當的法國維琪政府。
13. 中國長時期重要的農產地帶即是帝國的經濟重心，也是政府稅收的主要來源。但自某一時期開始，沿海的商業城市開始逐漸取代內陸的農業精華區，成為中國新的經濟重心。某一時期應是下列何者？
 (A)隋唐時期拓展絲路貿易，西域胡商湧入中國 (B)宋元時期北方漢人南遷，經濟重心逐漸南移
 (C)十五世紀鄭和出航後，華商勢力擴展南洋貿易 (D)十九世紀鴉片戰爭後，西方帝國主義進入中國。
14. 七世紀時，奧米亞王朝以阿拉伯人為統治核心；八世紀，阿拔斯王朝則除了任用阿拉伯人外，大量任用波斯人、土耳其人為政府官員。請問：阿拔斯王朝的作為，彰顯伊斯蘭教義中哪項重要的原則？
 (A)一神信仰 (B)先知概念 (C)一律平等 (D)捐課救助。
15. 十六~十七世紀間，有位思想家主張「因信稱義」，強調人人是獨立自主、平等的個體。這樣的主張，也反映出他對女性在家庭和教育子女重要性的肯定，有利於女性參與更多的活動。這位思想家應是以下何者？
 (A)佛羅倫斯的薄伽丘 (B)西班牙的羅耀拉 (C)英格蘭人培根 (D)日耳曼人馬丁•路德。
16. 地圖是地理研究的重要工具，也是現代日常生活的一部分，不同種類地圖具備不同的特性。若下列四幅地圖圖幅大小一樣，請問哪一幅地圖的比例尺最大？
 (A)警專校園鳥瞰圖 (B)文山區行政區圖 (C)坪林區茶園分布圖 (D)台北市捷運路線圖。
17. 臺積電前董事長張忠謀曾在一場演講中，指出「高科技產業與產業聚落是息息相關」。透過產業聚落進行產業鏈整合，人才互補交流及技術創新，並掌握以使用者需求為導向的創新服務。請問產業聚落所帶來的經濟效益最適合用下列哪個概念來解釋？
 (A)聚集經濟 (B)專業分工 (C)產業群聚 (D)產業連鎖。
18. 第一層級的三個世界都市，若依國際標準時判斷，則每日股市開市的先後順序為下列何者？
 (A)倫敦、東京、紐約 (B)紐約、東京、倫敦 (C)東京、倫敦、紐約 (D)東京、紐約、倫敦。
19. 右圖為某國的人口金字塔圖，請根據圖中資訊判斷下列何者正確？
 (A)扶養比持續遞減 (B)處於晚期擴張階段
 (C)需要大量增設幼兒園 (D)銀髮族商品需求增加。



20. 中國能源開發除了燃煤與天然氣之外，還包括水力、風力、核能與太陽能。請問何種能源開發方式最常造成跨國的區域紛爭？
 (A)風力發電 (B)水力發電 (C)核能發電 (D)太陽能發電。
21. 印尼政府將於東加里曼丹創建一座新都市來容納中央政府機關與公務員，屆時此座新都市勢必吸引更多相關部門產業與人口的移入。請問此現象最符合下列何項概念？
 (A)都市化 (B)都市成長 (C)都市擴張 (D)都市更新。

22. 臺灣民眾到某國洽商，發現當地的鼎泰豐餐廳考量該國普遍的飲食習慣，所以小籠包沒有豬肉口味。請問此民眾最可能至下列何處洽商？
 (A)日本 (B)英國 (C)新加坡 (D)阿拉伯聯合大公國。
23. 明朝鄭和出使西洋，率領 2.78 萬人組成的船隊，完成了七下西洋的創舉，堪稱十五、十六世紀大航海時代的先驅。當時的鄭和船隊往來西洋必須根據所謂的「舶棹風」來決定往返的時間，請問鄭和利用的「舶棹風」指的是那一種風？
 (A)信風 (B)季風 (C)西風 (D)海陸風。
24. 某區位居非洲大陸，地勢高，境內有火山、地塹與斷層湖、褶曲湖，山頂可見積雪，被當地人稱為閃亮亮的山，野生動物仰賴草料與湖泊水源為生。根據上文敘述，某區最可能位於右圖中哪個地理區？
 (A)甲 (B)乙 (C)丙 (D)丁。
- 
25. 活動斷層和土石流潛勢溪流左右兩側固定距離內不得進行開發，請問 GIS 的什麼功能可以快速求出不可開發的範圍？
 (A)地勢分析 (B)視域分析 (C)環域分析 (D)疊圖分析。
26. 澳洲與紐西蘭同為南半球重要農業生產國，但就林業資源來說，紐西蘭的出口比重遠大於澳洲，主要與下列何項因素關係最密切？
 (A)澳洲人口密度較低，無力從事森林砍伐 (B)紐西蘭國土面積較大，森林材積量較高
 (C)澳洲因重視環保觀念，所以管制木材出口 (D)紐西蘭的氣候較為多雨潮濕，林木生長較佳。
27. 下列哪一地形演育過程可以做為一地海岸可能發生離水作用的判別依據？
 (A)裙礁→堡礁 (B)V 型谷→谷灣 (C)新月丘→橫沙丘 (D)海蝕平臺→海階。
28. 彰化溪湖與雲林西螺距離臺北都會區均甚遠，卻於 1980 年代成為蔬菜栽培專業區，其中最主要的因素為下列何者？
 (A)大量開發地下水源 (B)縱貫線鐵路電氣化 (C)中山高速公路通車 (D)單位面積產量提高。
29. 巴西東北部的「奔牛」節慶為人類非物質文化遺產，此節慶受到當地原住民的民間傳說及非洲黑人、西班牙、葡萄牙和法國節慶影響，在當時的殖民和奴隸社會具有很大的象徵意義。請問此象徵意義所指為下列何者？
 (A)國際分工的整合 (B)多元文化的合成 (C)殖民對信仰的影響 (D)區域經濟的發展。
30. 若是由宜蘭南方澳海岸出發，騎自行車依順時針方向環台一圈回到出發地，請問依序會經過哪些海岸？甲、斷層海岸；乙、珊瑚礁海岸；丙、離水洲瀉海岸；丁、沉水谷灣海岸；戊、沉水堆積沙頸岬海岸。
 (A)乙甲戊丙丁 (B)甲戊乙丁丙 (C)戊甲乙丙丁 (D)乙戊甲丁丙。
- 貳、多重選擇題：(一) 共 10 題，題號自第 31 題至第 40 題，每題 4 分，計 40 分。
 (二) 每題 5 個選項各自獨立其中至少有 1 個選項是正確的，每題皆不倒扣，5 個選項全部答對得該題全部分數，只錯 1 個選項可得一半分數，錯 2 個或 2 個以上選項不給分。
 (三) 請將正確答案以 2B 鉛筆劃記於答案卡內。
31. 中國從魏晉南北朝到明清時期，國家的賦稅經過多次重大的變革，其中最重要的特色是由繳納實物轉為繳納貨幣。請問：以下哪些賦稅制度的精神是以繳納貨幣為主？
 (A)租調制 (B)租庸調法 (C)兩稅法 (D)一條鞭法 (E)攤丁入地。
32. 以下是十九、二十世紀之際的看法：中國如果要自己改變陋習，就必須等待強而有力的征服者下令廢除女子纏足的習慣。但中國並沒有出現強而有力的君王，故唯有外來的勢力才能拯救女孩脫離桎梏。若我們能夠推翻中國這個政權，就能發布不再毀傷女孩雙腳的禁令。這樣的作法從其他的角度看，有人會認為不正當，但從人性角度來看，是完全公正的。請問：對於上述看法的理解，以下何者的敘述正確？

- (A)肯定清政府消滅漢人風俗的用心 (B)憐憫中國婦女受到的箝制與束縛
(C)取代政權是推廣天足的好方法 (D)主張廢纏足、強種保國對抗歐美列強
(E)以西方強勢文化的立場看待中國。

33. 十九世紀的歐洲在民族主義浪潮的影響下，呈現出不同的面貌。其中，哪兩個國家受到民族主義的影響，由菁英分子主導國家統一建國的任務，塑造國民對國家的認同，而在 1870 年代初建立國家？

- (A)土耳其 (B)義大利 (C)德意志 (D)比利時 (E)希臘。

34. 十七世紀以來，兩個歐洲國家多次在東亞為擴張勢力而爆發衝突，臺灣也成為雙方爭奪的目標之一。兩國在 1640 年代的爭奪戰後，臺灣南、北部則成為單一國家的殖民勢力。請問：上述殖民勢力是指哪兩個國家？

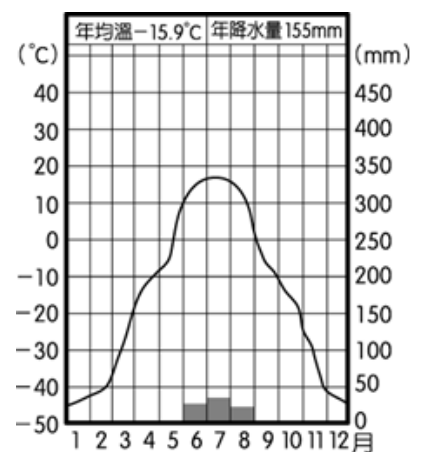
- (A)葡萄牙 (B)西班牙 (C)英國 (D)荷蘭 (E)法國。

35. 以下是近年來介紹三個國家歷史發展的書籍：《印尼：眾神遺落的珍珠》、《越南：世界史的失語者》、《印度：南亞文化的霸權》。請問：這三個國家的歷史發展，都具有以下哪些共同的特色？

- (A)曾受帝國主義國家殖民統治 (B)成為東亞文化圈的指標國家 (C)伊斯蘭教是國家當前的主流信仰
(D)在日本南進政策下成為殖民地 (E)受民族自決影響起而爭取獨立建國。

36. 右圖為俄羅斯某地的氣候圖，依據此圖資料判斷，下列敘述何者正確？

- (A)此地屬於溫帶大陸性氣候
(B)此區的土壤為強酸性灰化土
(C)此區最容易看到的天然植物為針葉林
(D)此區屋舍多高架式建築，主因為凍土
(E)此區最可能出現在俄羅斯境內的西伯利亞。



37. 臺灣近年對外貿易成長最多的區域為東協十國，然而臺灣並沒有加入以東協為主體的自由貿易區，未來恐難與東協加六之一的韓國競爭。在這樣的困境下，臺灣產品要在東協市場保持競爭力較可行的方式為下列何者？

- (A)調降臺灣勞工工資 (B)實施臺幣低匯率政策
(C)與東協個別會員國簽訂 FTA (D)海外直接投資，到東協國家設廠
(E)調高東協進口至臺灣的產品關稅。

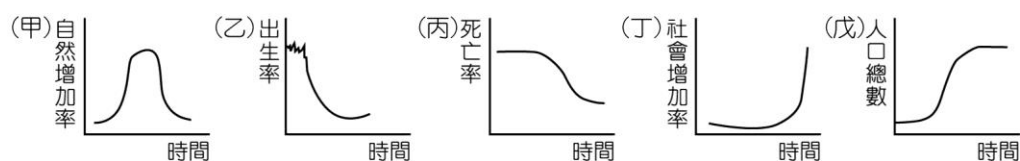
38. 印度半島印度河中游地帶降水稀少，屬於乾燥氣候，其成因為下列何者？

- (A)位盛行風背風側 (B)沿海有涼流經過 (C)深居內陸，距海遙遠
(D)居主要盛行風的末端 (E)受到副熱帶高氣壓影響。

39. 衛星影像中每一個網格就是一個像素(pixel)，每一個網格的邊長即被定義為該網格資料的空間解析度，福衛 5 號黑白影像解析度 2 公尺，歐洲太空總署哨兵 2 號 (Sentinel-2) 則可提供 10、20 和 60 公尺影像解析度。請問福衛 5 號衛星影像的敘述，下列何者正確？

- (A)其解析度低於 Sentinel-2 衛星 (B)其圖形清晰優於 Sentinel-2 衛星
(C)每網格儲存的空間面積大於 Sentinel-2 衛星 (D)因空間解析度低，故不適用於 GIS 疊圖分析
(E)若地面範圍面積一樣，福衛 5 號影像資料量是 Sentinel-2 衛星 20 公尺解析度影像的 100 倍。

40. 人口轉型是指在封閉人口系統中，人口由高出生率、高死亡率逐漸轉變為低出生率、低死亡率的過程。下列五幅人口要素變遷圖，哪兩者符合上述人口轉型模式的變化？



- (A)甲 (B)乙 (C)丙 (D)丁 (E)戊。

臺灣警察專科學校 112 學年度專科警員班第 42 期
正 期 學 生 組 新 生 入 學 考 試

科目：歷史與地理科

壹、單選題

題號	第1題	第2題	第3題	第4題	第5題	第6題	第7題	第8題	第9題	第10題
答案	D	A	D	A	C	D	B	A	B	C

題號	第11題	第12題	第13題	第14題	第15題	第16題	第17題	第18題	第19題	第20題
答案	A	B	D	C	D	A	C	C	A	B

題號	第21題	第22題	第23題	第24題	第25題	第26題	第27題	第28題	第29題	第30題
答案	A	D	B	B	C	D	D	C	B	C

貳、多重選擇題

題號	第 31 題	第 32 題	第 33 題	第 34 題	第 35 題
答案	CDE	BCE	BC	BD	AE

題號	第 36 題	第 37 題	第 38 題	第 39 題	第 40 題
答案	BCDE	CD	DE	BE	AE