

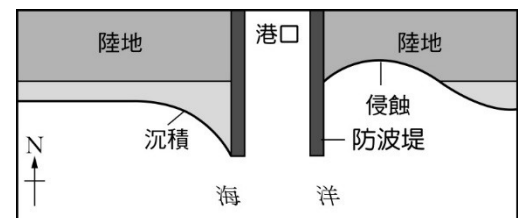
臺灣警察專科學校專科警員班第三十五期（正期學生組）新生入學考試中外地理科試題

壹、單選題：（一）三十題，題號自第1題至第30題，每題二分，計六十分。

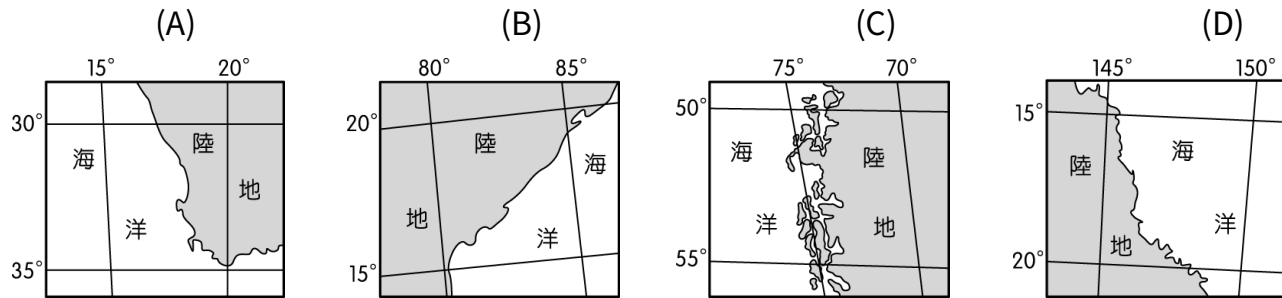
（二）未作答者不給分，答錯者不倒扣。

（三）請將正確答案以2B鉛筆劃記於答案卡內。

1. 地表的主要高山如玉山山脈、喜馬拉雅山山脈、阿爾卑斯山山脈等，這類高大山脈主要是由那種營力形塑而成的？  
(A)火山活動 (B)斷層作用 (C)褶曲作用 (D)堆積作用
2. 歐美國家都市的市中心，夜間的街道通常人車稀少，顯得相當冷清；而臺北夜晚的市街就顯得忙碌、熱鬧，形成這種都市景觀差異的主要影響因素為何？  
(A)氣候冷暖 (B)綠地多寡 (C)住商混合 (D)地價高低
3. 烏魯魯岩是澳洲原住民的聖地，也是觀光的熱門景點，遊客來到此區最容易觀賞到什麼景觀？  
(A)底岩裸露 (B)連綿砂丘 (C)礫石廣布 (D)綠蔭遮天
4. 日漸商業化的產業活動，為撒赫爾地區帶來更嚴峻的乾旱和饑荒，人們開始察覺傳統「居所經常移動、自給自足」的生活方式，才是較適合撒赫爾地區的生態環境。傳統生活方式適合撒赫爾地區的主因是什麼？  
(A)可維持較高的生產力 (B)可維持植被的數量  
(C)可維持野生動物的龐雜性 (D)可保持環境負載力
5. 臺北飛往紐約的民航機，大多經由安哥拉治機場中轉，只有少數航班選擇飛越太平洋在檀香山機場中轉，航空公司選擇安哥拉治機場中轉的主要考量為何？  
(A)利用噴射氣流節省成本 (B)航線最接近地球的大圓  
(C)經過的飛航管制區最少 (D)安哥拉治機場中轉費用較低
6. 黃土高原的平坦面上，可以看到居民在平地上挖出七公尺深的方形大坑，並在坑的四壁下部鑿洞，形成天井式的四方宅院，這種聚落景觀與黃土的那項特性關係最密切？  
(A)具垂直壁立性 (B)含有結核團塊 (C)顆粒細小透水性佳 (D)土層無顯著層理
7. 中國準備在其西南邊境建設一系列的水壩，這些工程會影響到下游國家的水源供應，可能引發國際糾紛，其中那一河川不會受到水壩蓄水的影響？  
(A)湄公河 (B)薩爾溫江 (C)昭披耶河 (D)伊洛瓦底江
8. 印度古老寺廟保持泥土地面、許多道路旁也有泥土路，方便習慣於赤腳行走的人，不會被超過60°C的人工鋪面燙傷；停車場的車輛大多搖下車窗，以免車內溫度被曬得過火，這種高溫現象通常出現那個時段？  
(A)二月 (B)五月 (C)八月 (D)十月
9. 因應能源匱乏及全球暖化現象，市面上已出現油電混合或電力驅動的車輛，使用替代能源來降低對化石燃料的依賴，是未來交通工具的趨勢也是那種知識經濟的特徵？  
(A)學習型經濟 (B)網路化經濟  
(C)品牌經濟 (D)綠色經濟
10. 海岸變遷對當地居民的影響很大，依據學者多年的研究顯示，若在海岸增加人工物如右圖的海岸地形示意圖，依示意圖推測，此地最大的海流方向為何？  
(A)西向東 (B)南向北  
(C)東向西 (D)北向南
11. 學者通常利用擦痕判斷冰河的移動方向，那一地形『無法』由擦痕來判讀冰河的流向？  
(A)蛇丘 (B)冰斗 (C)冰河槽 (D)羊背石
12. 航照影像或衛星像影的即時性，成為觀測大地的重要工具，一般由影像中的形線色質，可以判讀出聚落的何種特徵？  
(A)聚落的機能 (B)聚落的職業類別 (C)聚落的主要建材 (D)聚落的分布類型
13. 濁水溪兩岸是目前臺北都會區最重要的蔬菜供應地，這種現象與古典邱念農業區位有相當大的差異，形成這種市場附近集約度低於濁水溪兩岸的主要影響因素為何？



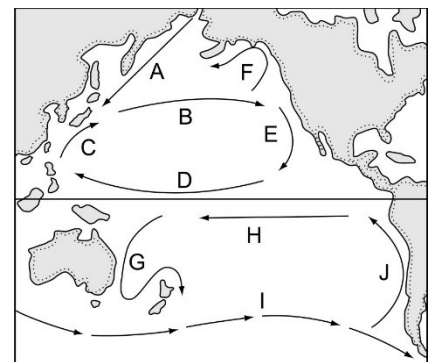
- (A)降水季節 (B)水利設施 (C)氣溫差異 (D)交通革新
14. 農業全球化之後，農業土地利用的專業化程度更高，各地區之間將發生何種變化？  
 (A)生產空間分布由集中趨向分散 (B)各地的交互作用減弱  
 (C)自然環境對農業的影響力降低 (D)各地的相互依賴加深
15. 西班牙在歐盟區域發展基金的輔助下發展園藝農業，園藝作物為西班牙帶來大量的外匯收入，現階段西班牙園藝農業具有何特色？  
 (A)主要生產者屬於自耕小型農場 (B)園藝農業區集中在大都市邊緣  
 (C)主要抽取地下水灌溉園藝作物 (D)集約農業系統投入大量的機械
16. 小天利用寒假到海外旅遊，行程包含葡萄產區參訪，在一連串晴朗的天空下，觀賞葡萄酒莊的釀酒過程。小天與同學分享旅遊時，最可能用拿出那一張圖來表達這些葡萄酒莊的區位？



17. 那些河流地形（甲.河階；乙.峽谷；丙.曲流；丁.沖積扇；戊.三角洲）在發育的過程中，歷經侵蝕與堆積作用？  
 (A)乙丙 (B)甲丙 (C)甲丁 (D)丁戊
18. 西方強權為了尋求熱帶香料及獲取廉價農礦資源，在東南亞地區統治了百餘年，這段殖民歷程在東南亞留下那些影響（甲.穆斯林為主的菲律賓民答那峨島，數度與政府衝突；乙.越南丘陵地種植咖啡，是殖民地式經濟發展的熱帶栽培業；丙.雅加達、馬尼拉、曼谷由過去的港埠型都市，形成首要型城市；丁.西方強權入侵、通婚，出現娘惹、峇峇）？  
 (A)甲乙 (B)乙丙 (C)甲乙丙 (D)甲丙丁
19. 都市發展過程中，須要面對許多大大小小的問題，北京和上海的都市機能雖有若干差異，但是兩座都市需要面對的共同急迫問題為何（甲.人口密度過高；乙.缺水問題；丙.市容整頓；丁.產業轉型；戊.沙塵暴）？  
 (A)甲乙丙 (B)乙丙丁  
 (C)甲丙 (D)丁戊

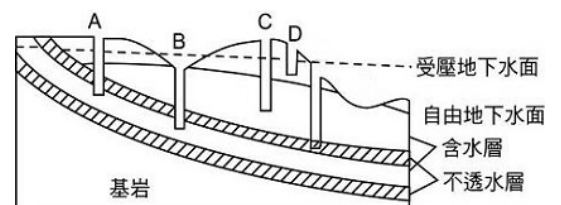
◎參考右側的洋流示意圖（20~21題）

20. 全球氣候變遷與聖嬰現象的周期變動有相當大的關係，聖嬰現象的研究是由那一洋流的異常現象開始？  
 (A)A (B)C  
 (C)G (D)J
21. 溫哥華冬溫較同緯度地區為高，主要是受到那一洋流的影響？  
 (A)A (B)C  
 (C)E (D)F



◎參考右側的地下水示意圖（22~23題）

22. 澳洲大分水嶺東側的牧業發展，是利用那一種水井提供牲畜用水？  
 (A)A (B)B  
 (C)C (D)D
23. 在人口稠密地區，那一種水井最容易受到汙染，不適合提供為民生用水？  
 (A)A (B)B  
 (C)C (D)D



◎阿福在整理旅遊照片時看到兩張照片，左圖是當地常常看到的建築物類型，右圖外觀像盤子堆疊的水池，是聯合國教科文組織登錄的 World Heritage。(24~25 題)



24. 左圖的這類建築物，傳達出何種文化景觀？

- (A) 伊斯蘭教 (B) 猶太教  
(C) 基督教 (D) 印度教

25. 阿福依稀記得解說員提過右圖景觀的成因，回家後特別翻查資料確認，資料顯示此地最主要的營力是什麼？

- (A) 侵蝕—河積 (B) 火山—堆積  
(C) 溶蝕—結晶 (D) 隆起—侵蝕

◎參考右側的北美洲示意圖(26~30 題)

26. 臺灣每年由北美洲進口許多水果，如柑橘、水蜜桃等，這些園藝作物最主要的栽培區在那裡？

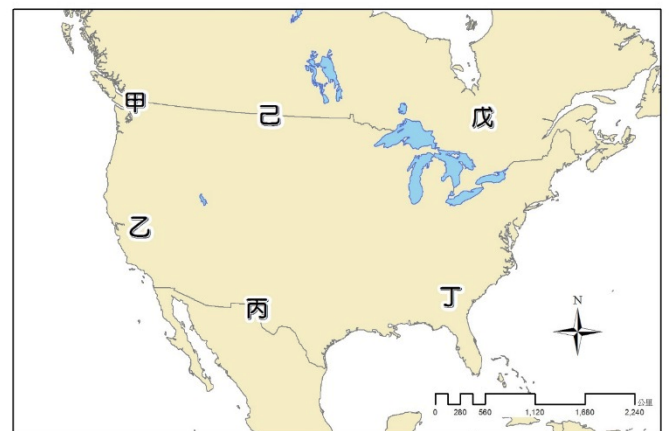
- (A) 甲 (B) 乙  
(C) 丙 (D) 丁

27. 北美自由貿易區成立後，對產業的區位產生相當大的影響，有些老化或對勞力成本較敏感的工業，在調整工廠區位時，最常遷往何處？

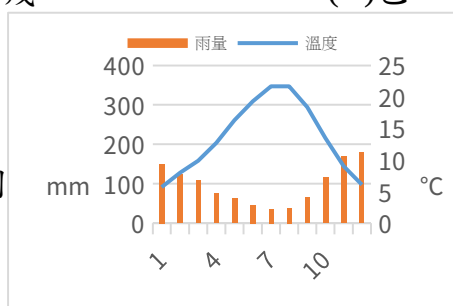
- (A) 乙 (B) 丙  
(C) 丁 (D) 己

28. 小麥是世界大宗的糧食交易品，北美自由貿易區是全球輸出量最大的地方，小麥主要栽培區最接近圖中那一區？

- (A) 丙 (B) 丁  
(C) 戊 (D) 己



29. 右側



的氣候圖，最可能出現在地圖中的那一地區？

- (A) 甲 (B) 乙  
(C) 丁 (D) 戊

30. 地圖中的戊區，地表地形最主要的營力是什麼？

- (A) 風力堆積 (B) 河流堆積  
(C) 冰河侵蝕 (D) 風力侵蝕

貳、多重選擇題：(一) 共十題，題號自第31題至第40題，每題四分，計四十分。

(二) 每題五個選項各自獨立其中至少有一個選項是正確的，每題皆不倒扣，五個選項全部答對得該題全部分數，只錯一個選項可得一半分數，錯兩個或兩個以上選項不給分。

(三) 請將正確答案，以2B鉛筆劃記於答案卡內。

31. 基隆河上游大華一帶的壺穴景觀，可列名為國際級地形景觀，調查研究顯示，形成大華壺穴群的環境特色有那些？  
 (A)硬岩河床 (B)軟岩河床 (C)回春作用 (D)侵蝕基準上移 (E)侵蝕基準下移
32. 高地氣候與一般的氣候有相當大的差異，高地氣候通常具有那些特徵？  
 (A)氣壓高、風速小 (B)日照強、氣溫低  
 (C)日溫差小、年溫差大 (D)天然植被垂直分布  
 (E)迎風坡處易產生降水
33. 高齡化與少子化是許多已開發國家共同的人口問題，高齡化與少子化會對一個國家造成那些影響？  
 (A)勞動力不足 (B)醫療照護費用增加 (C)產品出口量增加  
 (D)社福支出降低 (E)扶養比增加。
34. 巴西政府為了經濟發展，鼓勵開發亞馬孫盆地，導致雨林面積大幅縮減，雨林大量開發會帶來了那些影響？  
 (A)增強全球暖化 (B)土壤侵蝕嚴重 (C)生物品種消失  
 (D)土壤鹽鹼化 (E)降水大量增加
35. 在右圖所示的傳統建築地區，目前最可能出現那些現象？  
 (A)單位面積天然植物種類繁多  
 (B)農業土地土壤鹽化問題嚴重  
 (C)商業性穀物和酪農業極興盛  
 (D)晝夜長短與溫差季節變化小  
 (E)土壤質地黏重且富含腐植質
36. 東歐各國在加入歐盟後，吸引眾多業者設廠成為西歐成衣產業重要生產基地，許多企業也不斷地到此投資電子廠，請問跨國企業前進東歐的主要區位因素為何？  
 (A)歐盟市場廣大 (B)勞力相對便宜 (C)語言溝通方便  
 (D)歐洲大平原核心 (E)原物料豐富
37. 每隔數年就會發生一次洋流水溫異常的現象，目前已累積大量的觀測資料，學者對此聖嬰現象仍然未盡瞭解。在聖嬰年的異常氣候中，那些地區最可能觀測到降水量，遠低於年平均降水量的現象？  
 (A)印尼 (B)秘魯西岸 (C)澳洲北部 (D)加州海岸 (E)喀拉哈里盆地
38. 中南美洲的礦藏豐富，大多數國家的工業卻進展緩慢，經濟發展遠遠落後於北美洲。這樣的差異和中南美洲的那些因素關係最大？  
 (A)氣候條件 (B)大地主制 (C)人力資源不足 (D)殖民地式經濟 (E)可耕地面積不足
39. 沙塵暴已成為跨國的環境問題，其中最大的砂源來自中國的西北地區，當地的土地沙漠化為沙塵暴提供大量砂源，該區的沙漠化與那些條件直接相關？  
 (A)開闢道路交通網路 (B)開闢農田灌溉渠道 (C)氣候長期乾旱缺水  
 (D)擴大牲畜放牧範圍 (E)長期灌溉土壤鹽化
40. 臺灣農業因應環境變遷及全球化的影響，已逐漸轉化成市場導向及多元化導向的農業，農業經營轉向市場導向及多元化導向的改變會呈現那些現象？  
 (A)農產自給自足 (B)發展休閒農業 (C)提高附加價值 (D)改變生產結構 (E)建立產銷品牌

