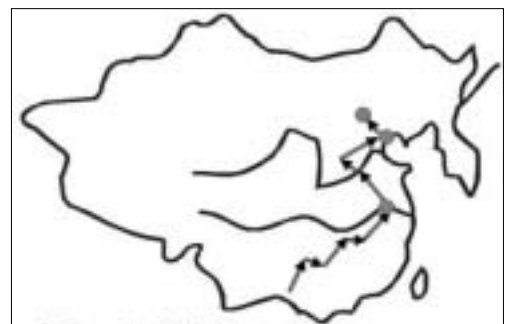


壹、單選題：(一) 三十題，題號自第 1 題至第 30 題，每題二分，計六十分。
 (二) 未作答者不給分，答錯者倒扣該題分數四分之一。
 (三) 請將正確答案以 2 B 鉛筆劃記於答案卡內。

1. 有一位學者宣稱：「經過多年的競爭，民主政治與資本主義獲得最後的勝利，歷史已經走到終點了，從今以後人類社會發展的基本原則與方向正式確立，不會再有任何的改變。」從世界歷史發展而論，此一觀點應該出現於何時？ (A)啟蒙運動 (B)戰間期 (C)冷戰時代 (D)後冷戰時代。
2. 歷史上，經常因為產業經濟的變動影響一地人口的消長。如古巴的領土面積大約有 11 萬平方公里，但在某段時期之間，該國人口出現急遽性的增加，其中以黑人族裔的數量增加最為明顯。右圖是該國黑人人口的變化統計表，請問此一人口現象的變動開始發生於何時，並與哪一產業的發展最為密切？

年代	黑人人口數 (單位：個人)
甲	40000
乙	125000
丙	235000
丁	400000

(A)十五世紀，茶葉 (B)十六世紀，咖啡 (C)十七世紀，棉花 (D)十八世紀，蔗糖。
3. 某一論文說：「江南上層士大夫之才幹者被拔擢為令僕以下，尚書郎、中書舍人以上之高級官員。而其餘尚文學之士人，大多荒誕浮華，不涉世務，自以為清高。至於台閣令史、主書等官員，皆熟習政務，辦事能力強。這些人即使在當時被認為是小人，仍多被委任政務，因為他們的確有辦事的才能。」請問此論文所探討的現象應發生於何時？ (A)魏晉 (B)南朝 (C)北朝 (D)唐代。
4. 某一本《回教史》如此敘述說：「對阿拉的一神信仰取代阿拉伯各部落的多神信仰和偶像崇拜，從政治上、思想上有力地促進了阿拉伯國家的統一和中央政權的鞏固。獨一的真主是大慈、大能、大智的，他無形無像，無時不在，無處不在。伊斯蘭教允許繪畫大自然風景，但不能畫人，更不能畫真主、天仙和聖人。穆斯林堅信真主，反對『以物配主』，在崇拜真主的同時祈禱其他神靈。先知禁止按照人、動物或一切有生命物體形狀所造的主體塑像，尤其偉人雕像，如學者、帝王等。誰要以物配主，誰就悖逆了『認主獨一』，導致信仰動搖甚至產生異端邪說。所以在嚴格的伊斯蘭教國家裏，尤其清真寺中是沒有人物雕像和繪畫的。」從史學研究的角度而言，這一段話應該視為是： (A)歷史史料 (B)歷史解釋 (C)歷史理論 (D)歷史事實。
5. 中國宰相制度的發展：(甲)宰相合議，不僅分權，同時分責，君主權力更形擴大；(乙)開始有丞相負責處理中央政策，宗法制轉為世官世祿制；(丙)中國千年來的丞相之職已遭廢止，府內只有票擬的大學士唯唯諾諾；(丁)為了防止專擅擴權，丞相分出了軍事大權，甚至財經權力都被剝奪了。請依照發展的先後順序，把正確的情形排列出來？ (A)甲乙丙丁 (B)乙甲丁丙 (C)乙丁甲丙 (D)丁丙甲乙。
6. 當代比較憲法學者希雅士 (B. Sieyes)宣稱：「國民之存在，優先於國家之一切，國民乃國家所有權力之泉源。國民之公意才是法，國民之公意不但經常合法，而且除自然法外無什麼法能優先而居於國民公意之上。諸凡國家的實定法，其來源唯有完全出自國民之公意…法理上無論何種代理的權力，都不能輕易變更自己被賦予代理權的條件。基於此種意義，憲法始成為基本大法。憲法必須先於國家機關之成立而由國民公意制定，再憑此憲法來制定設立立法機關(兼掌修憲權能)。…唯此，各種政治機關才能對國民負最後責任，而成從屬於國民之機關。」請問此一憲法觀點的理論淵源主要來自於何人？
 (A)洛克 (B)孟德斯鳩 (C)伏爾泰 (D)盧梭。
7. 有一首臺灣民謠：「思想起，從前在蕉風椰雨的南國，有個水涯山隈的排灣族部落，他們安祥幸福的生活，好個桃花源的理想國。可是啊，自從海上起了風波，敵寇就排山倒海地來威迫，家園燬了，廬舍燒了，老弱婦孺填了溝壑。彼當時，排灣族的勇士抑不住心中的悲情怒火，頓時化作飛矢利戈，紛紛指向敵人的心窩。」歌詞內容緬懷過往，令人低迴不已。請問文中吟唱的歷史事件為何？
 (A)牡丹社事件 (B)土庫事件 (C)礁吧年事件 (D)霧社事件。
8. 右圖為哪一動亂的路線圖？
 (A)庚子事變 (B)太平天國 (C)捻亂 (D)回變。



9. 〈資料一〉：西元前 49 年布魯特斯(Marcus Junius Brutus)加入龐培(Gnaeus Pompeius Magnus)的軍隊，對抗凱撒(Julius Caesar)。次年龐培敗死，凱撒寬恕他，但他仍然參加刺殺凱撒的密謀集團。西元前 44 年，凱撒終於在元老院被以布魯特斯等人為首的密謀分子所刺殺。
- 〈資料二〉：布魯特斯曾說：「吾愛凱撒，但吾更愛羅馬。」
- 對於上述二筆資料中布魯特斯言行的衝突，吾人應該如何詮釋，方能最忠於歷史事實？ (A)龐培敗死後，布魯特斯要為龐培報仇，但因為凱撒曾經饒他一命，布魯特斯的說詞只是要為自己的行動尋求正當的藉口，掩飾內心真正的動機 (B)凱撒曾經饒布魯特斯一命，使他轉而敬愛凱撒。但因為凱撒反對羅馬帝國的建立，因而招致布魯特斯等人的刺殺，他的說詞凸顯了他的愛國心 (C)凱撒曾經有恩於布魯特斯，使他敬愛凱撒。但他為了維護共和，反對凱撒專制，因而刺殺凱撒。他的說詞表現了他的兩難處境 (D)龐培敗死後，布魯特斯繼之代起，為了奪取權力，因而刺殺凱撒。但因為凱撒曾經饒他一命，布魯特斯的說詞只是要掩飾自己真正的動機。
10. 史書有云：「有位鹽商發跡於安徽，在揚州修建園林，不僅建築藝術精巧，而且頗具詩情畫意，並蓄名畫至數千，奇珍異貨頗可觀。」試問上述史料所載為何朝代之事？ (A)宋代 (B)元代 (C)明代 (D)清代。
11. 西方歷史上，對於上帝的觀點曾經有過多次的轉變，以下是四個不同時期人們的看法：
- 甲：「歐洲人殺死了上帝，祂已經死了，我們再也不能相信宇宙的任何原則，只有尋找至高力量的替代者。」
- 乙：「上帝創造了世界和人類萬物，所有的歷史進程都在祂的計畫之中，就連時間也是由祂所主導的。」
- 丙：「上帝以自然形式存在，讓世界按照祂所發明的律法運行，不干預或參與自然界秩序和歷史秩序。」
- 丁：「世界和人類萬物都是上帝創造的，但是上帝主宰了我們一半的行動，另一半則由我們自己決定。」
- 以上敘述若依照出現的先後順序加以排列，請你選出正確的排序：
- (A)乙丁丙甲 (B)丁乙丙甲 (C)丁乙甲丙 (D)乙丁甲丙。
12. 有一篇關於中國早期文化的論文中提到：「新石器時代文化遺址的分布，像繁星般布滿天空，無論是在黃河流域中游、下游、長江流域、東南沿海、東北地區、甘青地區、四川等地都可以找尋到遺址。在此時，以旱作、稻作為主農業，已呈現出北方、南方不同的文化色彩。陶器製作，已有輪轉法，使陶器產量大增、品質也愈佳。它們彼此之間不斷文化、技術交流，使得精神、物質更加進步，奠定早期文化發展的優越基礎。」請問此文論點，認為早期文化的發展特徵為何？
- (A)呈分區發展狀態 (B)由中原文化核心地區向四周擴散 (C)侷限於長城以內 (D)東西二元對立。
13. 有一位社會主義者宣稱：「我們深感改革計劃的必然漸進性。社會主義植根於民主政治，民主必然迫使我們承認每一達到目標的步驟，至少必須獲得全國多數人民的同意與支持。因此，即使我們想立即革除所有的舊事物，但仍然必須在多數人民同意時才能完成。而一旦原則要付諸實踐時，我們必須先形成法案，並且逐條在委員會中辯論後，才交給適當的機構執行。如此，從一地之實行推及全國之普遍實施。這就是我們不能不了解的漸進之必然性。」請問此一主張應首先於何時何地發生並實現？
- (A)1800~1820 年，法國 (B)1830~1850 年，美國 (C)1870~1890 年，德國 (D)1880~1900 年，英國。
14. 《資治通鑑》：「唐（宣宗）大中之末，府庫充實。自（懿宗）咸通以來蠻兩陷安南、邕管，一入黔中，四犯四川，徵兵運糧，天下疲弊，三使內庫申茲空竭，戰士死於瘴癘，百姓因為盜賊，致中原榛杞，皆蠻故也。」這是記載唐代面臨哪一嚴重的外患？ (A)南詔 (B)吐蕃 (C)交趾 (D)天竺。
15. 某一個時期，漢人欲在臺灣開墾，須取得官方執照或向原住民取得耕作權利，層層轉租出去的結果，呈現出大租戶、小租戶、佃農，共同構成「一田兩主」或「一田三主」的複雜土地制度。請問這是哪一時期的現象？
- (A)荷蘭統治時期 (B)鄭氏政權時期 (C)清領時期 (D)日治時期。
16. 有一個國家曾經先後由羅馬帝國和法蘭克王國所統治，後來併入神聖羅馬帝國。近代以來，該國又成為西班牙的屬地，因為信仰新教而引起暴亂，遭受西班牙政府的鎮壓。該國獨立之後，以其宗教和思想自由的環境成為各國科學家和思想家的庇護所，甚至在最強盛的時期，擁有全世界最多的商船和國際貿易。雖然它偉大的時代已經結束，但一直到現在，它的經濟發達，本國企業遍佈全球，仍在世界經濟體系中，擁有不可忽視的影響力。請問這是哪一個國家？ (A)丹麥 (B)比利時 (C)荷蘭 (D)挪威。
17. 有一部史書中的〈兵衛志〉中寫著：「每正軍一名，馬三疋，……人馬不給糧草，日遣打草穀，騎四出抄掠以供之。……」從歷史事實而論，此文應出自何書？ (A)《魏書》 (B)《遼史》 (C)《金史》 (D)《元史》。
18. 法國文學家巴爾札克曾說：「現在，我們這個政府是個金錢至上的政府，竟然高喊著『只要有錢就保障你到成功之路』。在這種功利現實的政治世界中，國民當然會不滿政府，因為在表面上，政府雖然高掛著三色旗，但在實際上她已經放棄了三色旗的理想。」這段敘述中，我們所看到的「這個政府」是指法國歷史上什麼時期的政府？ (A)第一帝國政府 (B)七月政府 (C)第二共和政府 (D)第二帝國政府。

19. 右圖是民國三十年國民政府正式公布的對日宣戰令，是由林森先生領銜，而非蔣中正先生，這是因為蔣中正因何事件之發生而被迫辭去國民政府主席職務？
(A)西安事變 (B)九一八事變 (C)一二八事變 (D)七七事變。



20. 有一本《土耳其史》說：「協約國迫使土耳其簽訂色佛爾和約，恢復了歐洲列強在土耳其的治外法權，而土耳其的領土大為消滅，只剩下原有的四分之一，政治上又受到『某國』的控制。色佛爾條約遭到土耳其人民的唾棄，他們以武力阻止以『某國』為首的協約國陰謀得逞。」請問文中某國係指何國為主？

- (A)英國 (B)俄國 (C)法國 (D)美國。

21. 清末有位人士驚嘆說：「中國古今重馳傳，驛亭分設各郡縣；海外偏多縮地方，天半往來如掣電。大臣謀畫操勝算，軍民通報稱便利；洋師聘自丹國來，製造此技素獨擅。從此千里爭片刻，無須尺幅費筆硯；雁帛魚書應共妒，聲氣相通快勝箭。枝枝節節環四海，地角天涯連一線。」請問：這項科技是誰發明的？

- (A)愛迪生 (B)貝爾 (C)摩斯 (D)馬可尼。

22. 在中國大陸電影「活著」一片中，許多民眾將家中的金屬器物，如鏟子、鍋子、刀子、門栓等都交給幹部，甚至連細鐵絲也被迫交出去。請問此現象應在中共進行何項運動時發生？

- (A)大鳴大放 (B)反右派鬥爭 (C)三面紅旗 (D)文化大革命。

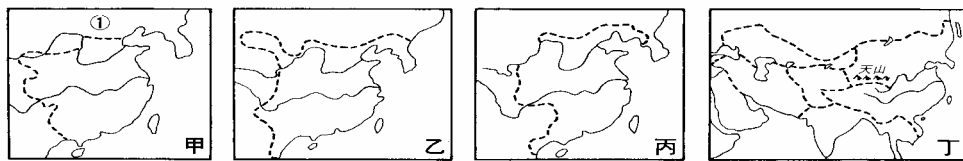
23. 1960年，適逢美國總統大選，舉辦了首次的電視辯論，新聞記者評論說：「當辯論會結束時，聽收音機的人覺得甲候選人是贏家，可是看電視的人都說乙候選人是贏家。第二天早上，大家則異口同聲地說：『乙候選人一定會是我們下一屆的總統。』」結果，乙候選人在該次選舉當選。但甲候選人後來捲土重來，也曾當選美國總統，請問他具備下列哪一項特徵？ (A)第一位與中共建交的美國總統 (B)第一位辭職的美國總統 (C)第一位最年輕的美國總統 (D)第一位公開推銷公共政策的美國總統。

24. 某一畫家的理論如下：「畫之道，所謂宇宙在乎手者，眼前無非生機，故其人往往多壽。至如刻畫細謹，為造物役者，乃能損壽，蓋無生機也。」請問：此人最可能為何者？ (A)顧愷之 (B)吳道子 (C)李思訓 (D)董其昌。

25. 學校舉辦一次文藝活動，邀請一些專家學者來校演講。講題包括了：「南北對抗的發展」、「臺灣地區資金與產業外移與失業率惡化的探索」、「亞洲金融風暴的探討」、「世界貿易組織的建立與發展」、「拉丁美洲金融危機」等。為了配合這項活動，學校還安排了一個討論，由知名學者暢談「麥當勞與星巴克文化現象」。這次文化活動的主題，應該如何訂定最為適當？

- (A)當代資本主義的發展 (B)國際政治經濟的轉變 (C)第三世界的發展危機 (D)全球化時代的來臨。

26. 下列是甲乙丙丁四幅中國歷代疆域圖，圖中虛線部分代表疆域大小。請問：若依時代先後順序，應該如何排列？ (A)甲乙丙丁 (B)丙乙甲丁 (C)甲丙乙丁 (D)丙乙丁甲。

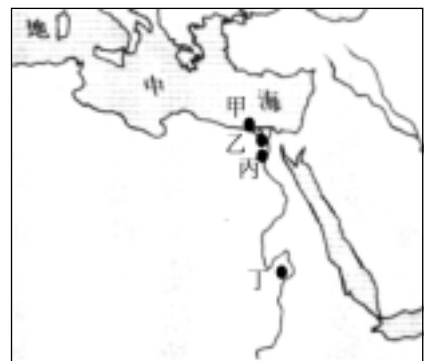


27. 有一本韓國史說：「花郎們都崇尚武士道精神並以儒家忠孝思想為基礎，而養成熱烈忠勇奉國的氣慨，故於平時，能砥礪氣節，視義如泰山，雖千金非義不取；而於亂時，或則入山祈禱，或從軍出戰，視生命如草芥；這種風氣，竟能培養不少名相勇將。」韓國這種傳統精神的形成，是於何時由中國傳入的？

- (A)漢代 (B)魏晉 (C)唐代 (D)明代。

28. 有一群考古學家在埃及某地發現一個遺址，經過考證之後，證實屬於某位法老的陵墓。當地出土大量的雕像與壁畫，生動而詳實地描繪古埃及的生活實況，尤其法老與王室成員的面貌五官清晰可辨，表現出寫實主義的風格。從政治與文化互動的關係而言，這位法老王的陵墓應該位於何處（參閱右圖作答）？

- (A)甲 (B)乙 (C)丙 (D)丁。



29. 某一本《臺灣地區觀光指南》介紹某個縣市的特色時寫道：「該地是第一個漢人在臺灣建立政權的統治據點，附近靠中央山脈的鄉鎮還出土了舊石器時代的人骨化石；而荷蘭時代所創造的新港文字，在這兒也運用了相當一段時間。」請問該書所介紹的地點應是何地？ (A)臺南 (B)高雄 (C)臺北 (D)新竹。

30. 蔣委員長說：「現在，我們要救國，要復興民族，並不需要講求怎樣高深奧妙的道理，就是要從實際生活做到整齊、清潔……，從『家常便飯』做起。」又說：「古人云：『從前種種譬如昨日死，以後種種譬如今日生。』希望大家抱此決心與精神，將過去不適於現代的一切野蠻生活徹底改革。」上述運動是在何處發起的？

- (A)定縣 (B)鄒平 (C)南京 (D)南昌。

貳、多重選擇題：(一) 共十題，題號自第 31 題至第 40 題，每題四分，計四十分。

(二) 每題五個選項各自獨立，其中至少有一個選項是正確的，每題皆不倒扣，五個選項全部答對得該題全部分數，只錯一個選項可得一半分數，錯兩個或兩個以上選項不給分。

(三) 請將正確答案以 2B 鉛筆劃記於答案卡內。

31. 一位出生於五四運動那年的男子，則他可能經歷下列哪些事情？ (A) 十二歲時陪爸爸至中央銀行買公債 (B) 十三歲時見父親為繳交釐金而煩惱 (C) 十四歲時已可搭乘飛機至其他城市 (D) 十五歲時無法再以白銀作貨幣買物品 (E) 十六歲時看見報導，中共的控制區厲行土地重新分配，農民皆感痛惡。
32. 民國時期曾經兩度容共，下列敘述何者正確？ (A) 分別始於民國十三年、二十六年 (B) 共黨均表面服從，暗中破壞 (C) 第一次共產黨寄生在國民黨內，第二次共黨則有單獨的軍隊與地盤 (D) 第一度容共後，於民國十六年下令清黨，第二度容共後，於民國三十六年宣布動員戡亂 (E) 共黨兩次均利用民族主義從事煽動。
33. 自第一次大戰結束到第二次大戰爆發之間的二十年，史家稱作「戰間期」。請問：如果你要編一部《二十世紀世紀大事紀要》，下列那些大事應予列入？ (A) 美國國會拒絕批准凡爾賽合約 (B) 德國威瑪共和政權的結束 (C) 俄國爆發二月革命 (D) 英國工黨執政 (E) 中國爆發五四運動。

34. 右列圖表是世界五個地區(拉丁美洲、美國及加拿大、非洲、中國、歐洲)，從西元 1650 年到 1950 年的人口統計表。請問下列各項敘述中，有哪些是正確的？ (A) 甲、乙、丙區應該分別是歐洲、美國及加拿大、非洲 (B) 丙、丁、戊區應該分別是拉丁美洲、非洲、中國 (C) 乙區在 1850 年~1900 年間人口劇增的主因應為丁區人口大量的移入所致 (D) 丙區在 1650 年~1750 年間人口劇減的主因應為甲區勢力的入侵所致 (E) 丁區在 1650 年~1850 年間人口減少的主因應為乙區對於勞力需求的迫切。

年代 地區	1650	1750	1850	1900	1950
甲區	120	140	265	400	570
乙區	2	2.6	25	80	165
丙區	34	12	35	65	165
丁區	102	88	89	120	220
戊區	170	270	410	350	647

※世界各地人口概略估計表(單位：百萬人口)

35. 印刷術的發明是人類歷史的一大進展。它使得資訊得以加速傳播，並且促成知識的普及化，對於社會、政治和文化等層面，產生深遠的影響。請問以下關於印刷術發展的歷史敘述有哪些是正確的？ (A) 大約在中國漢朝時期，就已經發展出雕版印刷術，用於佛像與佛經的印製 (B) 唐朝與大食之間爆發怛羅斯之役，從而促成印刷術的西傳 (C) 在北宋年間，畢昇發明活字印刷術，使用極為方便，因而普遍流行 (D) 在十五世紀古騰堡活字版印刷術通行以後，教會神職人員無法再壟斷知識與教義，於是多元化的神學詮釋觀點動搖羅馬教廷的絕對威權 (E) 歐洲的女性社會地位一直不如男性，在活字版印刷術通行以後，無論是貴族婦女或中下階層的婦女都可以利用女修道會或家中藏書來增長見聞。
36. 如果你是一個篤信王陽明思想的學者，你會認同下列哪些理念？ (A) 認為合理的、該做的事，就不顧一切，勇敢地去做 (B) 理在人的心裡，在人性裡面，但要服從法規，自我約束 (C) 拒絕權威，拒絕約束，一切以自我的覺悟為抉擇 (D) 讀書才能明理，不讀書無以實踐人的道德本性 (E) 心有所悟，便可以自信地踐行，所謂真理，並不是任何既定的政令律法所可以規約的。
37. 一位生活於西元七世紀的希臘正教教士可能有什麼見聞？ (A) 他看到地中海東部的商人通用君士坦丁堡發行的金幣 (B) 他看到政府經營專利事業 (C) 他看到聖智堂內有阿拉伯文字 (D) 他發現帝國內採行會制度，人民世襲父祖的行業，個人無選擇職業的自由 (E) 他看到的浮雕或畫多半取自神話或歷史。
38. 在下列孔子思想中，有哪些是不利科技的發展？ (A) 樊遲請學稼，子曰：「吾不如老農，若上好禮、好義、好信……則四方之民襁負其子而至矣，焉用稼？」 (B) 樊遲問知，子曰：「務民之義，敬鬼神而遠之，可謂知矣。」 (C) 季路問事鬼神，子曰：「未能事人，焉能事鬼。」 (D) 「由，誨汝知之乎，知之為知之，不知為不知，是知也。」 (E) 尚德較不尚智，貴人較不貴物。
39. 「煉金術」是一種企圖將一般金屬變為黃金的偽科學。古時候的煉金術士相信在占星術正確配合的情況下，鉛會「完美地」轉變為黃金。他們嘗試用各種化學方法加熱、冶煉金屬來加速這種轉化，但大部分方法都是祕密進行的。以下關於煉金術的敘述，有哪些是正確的？ (A) 在古時候世界各國都曾出現過，從中國、印度到希臘都有 (B) 中世紀歐洲人透過土耳其人的著作而接觸到煉金術 (C) 阿拉伯人著有《爐火術》一書，描述金屬互變的理論 (D) 近代科學大師牛頓嚴厲駁斥煉金術 (E) 煉金術導致現代化學的興起。
40. 西元前 27 年至西元前 180 年止，是羅馬帝國的太平盛世，稱之為「羅馬和平」，關於此時代的敘述，何者為是？ (A) 屋大維之後，西元前 96 年至西元前 180 年，羅馬帝國出現五位稱職的君主，一般史書稱為「五賢君」 (B) 五賢君之一的圖拉真，曾擴充版圖至多瑙河下游北部，並重視吏治，對基督徒採取寬容的態度 (C) 奧理略皇帝是位哲學家皇帝，著有《沉思錄》，內容充滿斯多葛學派的思想 (D) 帝國版圖遼闊，人種繁多，帝國西半部以拉丁文為主，東半部以希臘文為主 (E) 帝國的文化發展達於頂峰，有許多文學作品出現。