

100年公務人員特種考試海岸巡防人員考試、100年公務人員特種考試關務人員考試、100年公務人員特種考試稅務人員考試、100年特種考試退除役軍人轉任公務人員考試及100年國軍上校以上軍官轉任公務人員考試試題

代號： 53160 全一張  
53560 (正面)  
73560

等 別：三等稅務人員考試、三等退除役軍人轉任考試

類(科)別：財稅行政、會計

科 目：財政學

考試時間：2小時

座號：\_\_\_\_\_

※注意：禁止使用電子計算器。

甲、申論題部分：(50分)

- (一)不必抄題，作答時請將試題題號及答案依照順序寫在申論試卷上，於本試題上作答者，不予計分。  
(二)請以藍、黑色鋼筆或原子筆在申論試卷上作答。

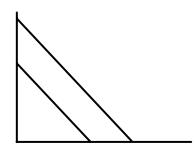
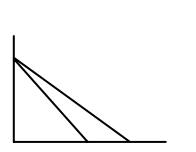
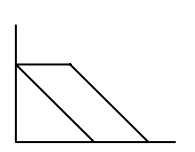
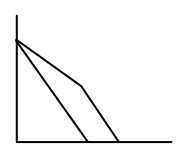
一、何謂價格扭曲式 (price-distorting) 的補貼？請舉例說明。為什麼價格扭曲式的補貼會造成無謂損失 (deadweight loss)？既然價格扭曲式的補貼會造成效率損失，為何現代福利國家仍採用相當多的價格扭曲式的補貼制度？(25分)

二、試問應如何對貨物課稅，才能符合最適租稅之效率原則？(25分)

乙、測驗題部分：(50分)

代號：6302

- (一)本測驗試題為單一選擇題，請選出一個正確或最適當的答案，複選作答者，該題不予計分。  
(二)共25題，每題2分，須用2B鉛筆在試卡上依題號清楚劃記，於本試題或申論試卷上作答者，不予計分。

- 下列那一項不是實證經濟學 (positive economics) 所探討的？  
(A)颱風過後，蔬菜減產，蔬菜的價格上升  
(B)課工資稅，將減少還是增加工作時間  
(C)對香菸課稅，香菸的需求會減少  
(D)為減少香菸的消費，應對香菸進口課關稅或採用配額方式
- 就效率面而言，在次佳的環境下，如果被課稅財貨之間的交叉替代彈性為零，則貨物稅應如何課徵才較符合效率？  
(A)對所有財貨從量課稅  
(B)對所有財貨課徵相同稅率  
(C)使所有財貨之稅後受補償需求彈性相等  
(D)使所有財貨因課稅而產生的邊際福利成本相等
- 下列關於「有條件補助金」(conditional grant)之敘述，何者正確？  
(A)不會產生替代效果  
(B)有條件補助金又稱為「稅收分成」(revenue sharing)  
(C)有條件補助金又可分成配合補助金與非配合補助金  
(D)不會發生「捕蠅紙效果」(flypaper effect)
- 若李嘉圖等值定理成立，則減稅之後，私部門消費有何變化？  
(A)增加  
(B)減少  
(C)不變  
(D)先增後減
- 依據財產稅租稅歸宿的各種觀點，下列敘述何者正確？  
(A)新觀點認為房屋稅將由房屋所有人負擔  
(B)新觀點視財產稅為一種貨物稅  
(C)新觀點認為課徵財產稅不會造成超額負擔  
(D)使用者付費觀點認為支出面與租稅收入面應同時考量
- 在房屋的長期供給彈性為無窮大，而土地的供給量為固定的情況下，就長期而言，依據財產稅租稅歸宿的傳統觀點，下列何者正確？  
(A)土地稅與房屋稅均不會造成「超額負擔」(excess burden)  
(B)土地稅與房屋稅均會造成「超額負擔」  
(C)土地稅不會造成「超額負擔」，房屋稅會造成「超額負擔」  
(D)土地稅會造成「超額負擔」，房屋稅不會造成「超額負擔」
- 若縱軸為私有財的消費數量，而橫軸為地方公共財的提供數量。下列何者最能表達「一般稅收分成」(general revenue sharing)對地方政府預算限制式之影響？  
(A)  (B)  (C)  (D) 
- 在累進稅制下，如果資本利得 (capital gains) 僅在實現年度課稅，將影響資產持有人出售資產的意願，這種現象稱為：  
(A)聚集效果 (bunching effect)  
(B)配置效果 (allocation effect)  
(C)閉鎖效果 (lock-in effect)  
(D)膨脹效果 (inflation effect)

(請接背面)

100年公務人員特種考試海岸巡防人員考試、100年公務人員特種考試關務人員考試、100年公務人員特種考試稅務人員考試、100年特種考試退除役軍人轉任公務人員考試及100年國軍上校以上軍官轉任公務人員考試試題

代號： 53160 全一張  
53560 (背面)  
73560

等 別：三等稅務人員考試、三等退除役軍人轉任考試  
類(科)別：財稅行政、會計  
科 目：財政學

- 9 個人選擇在二期消費模型作決策，若對利息收入課稅且允許利息支出可扣除 (deductible) 時，則下列敘述何者正確？  
(A) 替代效果大於所得效果，課稅使個人的儲蓄增加 (B) 替代效果小於所得效果，課稅使個人的當期消費增加  
(C) 替代效果小於所得效果，課稅使個人的儲蓄增加 (D) 替代效果等於所得效果，課稅使個人的當期消費減少
- 10 拉弗曲線 (Laffer curve) 意涵當所得稅率降低，且休閒為正常財，則稅收增加的條件是：  
(A) 替代效果小於所得效果，使工作時數隨著淨工資減少而增加  
(B) 替代效果大於所得效果，使工作時數隨著淨工資減少而增加  
(C) 替代效果小於所得效果，使工作時數隨著淨工資提高而增加  
(D) 替代效果大於所得效果，使工作時數隨著淨工資提高而增加
- 11 若商品經課稅後之未補償反應 (uncompensated response) 為零，則下列敘述何者正確？  
(A) 不產生替代效果 (B) 不產生所得效果 (C) 稅負全由廠商負擔 (D) 仍會扭曲資源配置
- 12 根據哈柏格 (Harberger) 之租稅歸宿的一般均衡模型分析，若公司部門是勞力密集產業且生產要素可相互替代，則有關公司所得稅之租稅負擔分配的敘述，下列何者正確？  
(A) 視要素替代效果與產出效果之相對大小而定 (B) 由公司部門的勞動者承擔較重的稅負  
(C) 由公司部門的生產要素承擔較重的稅負 (D) 由兩部門的資本主承擔較重的稅負
- 13 關於均一所得稅 (flat income tax) 之敘述，下列何者正確？  
(A) 平均稅率固定，稅負是比例的 (B) 平均稅率固定，稅負是累進的  
(C) 邊際稅率固定，稅負是比例的 (D) 邊際稅率固定，稅負是累進的
- 14 下列有關影響租稅轉嫁難易之敘述，何者正確？  
(A) 政治轄區範圍愈大，租稅轉嫁較容易 (B) 稅基愈狹小的租稅，租稅轉嫁較容易  
(C) 有未實現利得存在時，租稅轉嫁較困難 (D) 成本遞減的產業，租稅轉嫁較困難
- 15 林達爾 (Lindahl) 均衡的問題是：  
(A) 不是一個效率解 (B) 均衡不存在 (C) 稅負分擔不公平 (D) 均衡不易執行
- 16 亞羅 (Arrow) 不可能定理中所謂「非獨裁」 (Non-dictatorship) 指的是：  
(A) 獨裁違反潮流 (B) 獨裁較不容易做出正確判斷  
(C) 獨裁違反民主原則 (D) 獨裁較不容易產生投票循環
- 17 當市場價格無法反應出真正的社會價值時，需以下列何種價格來評價？  
(A) 生產者價格 (B) 消費者價格 (C) 實際價格 (D) 影子價格
- 18 下列那位學者提出政府支出呈「階梯狀」 (stepwise) 成長？  
(A) 華格納 (A. Wagner) (B) 皮寇克 (A. T. Peacock) (C) 雷姆賽 (F. Ramsey) (D) 巴羅 (R. Barro)
- 19 假設邊際私人成本 (MPC) 曲線為  $MPC=5+Q$ ，其中  $Q$  為產出數量，邊際外部成本 (MEC) 為  $MEC=Q$ ，邊際社會利益 (MSB) 曲線為  $MSB=20-Q$ ，政府可採取下列那項政策使市場產生社會最適產出水準？  
(A) 政府可課徵每單位產出 \$7.5 的庇古租稅 (Pigouvian tax)  
(B) 政府可補貼每單位產出 \$10 的庇古補貼 (Pigouvian subsidy)  
(C) 政府可課徵每減產一單位 \$10 的庇古租稅  
(D) 政府可補貼每減產一單位 \$5 的庇古補貼
- 20 自然獨占事業採用邊際成本訂價法時，將會產生下列何種結果？  
(A) 虧損 (B) 盈餘 (C) 收支平衡 (D) 超額利潤
- 21 政府對私人企業進行應用性研究發展工作給予租稅獎勵，係基於該項工作屬於下列何種性質的財貨？  
(A) 純粹私有財 (B) 純粹公共財 (C) 具外部利益性私有財 (D) 殊價財 (merit goods)
- 22 下列何者屬劣價財 (demerit goods)？  
(A) 國民義務教育 (B) 營養午餐 (C) 國民住宅 (D) 菸酒消費
- 23 下列何者為寇斯定理 (Coase Theorem) 成立的條件之一？  
(A) 協商人數眾多 (B) 交易成本高 (C) 外部性影響範圍大 (D) 污染源確定
- 24 在何種情況下，完全競爭市場的生產和交換效率皆可達成？  
(A) 產品的邊際替代率等於最便宜產品的價格時 (B) 產品的邊際效用為極大化時  
(C) 產品的邊際效用比等於其邊際成本比時 (D) 產品的邊際效用大於其邊際成本時
- 25 依據簡化功利主義 (simple Utilitarianism) 的觀點，若全社會的總所得 10 萬元且只有甲乙二位成員，效用函數相同且邊際效用固定，甲的所得較乙多 2 萬元。假設政府將甲的 2 萬元移轉給乙，則社會總福利水準將如何改變？  
(A) 不能判定 (B) 增加 (C) 減少 (D) 不變