

110 年特種考試地方政府公務人員考試試題

代號：43060
頁次：6-1

等 別：四等考試
類 科：交通技術
科 目：統計學概要
考試時間：1 小時 30 分

座號：_____

※注意：(一)禁止使用電子計算器。

(二)不必抄題，作答時請將試題題號及答案依照順序寫在試卷上，於本試題上作答者，不予計分。

(三)本科目除專門名詞或數理公式外，應使用本國文字作答。

一、判定下列各子題之真偽，如為錯誤，試舉例說明。

(一)當一組資料均為負值時，則中位數、變異數、眾數均為負值。(6 分)

(二)當一組資料之變異數等於 0，則平均數、中位數、眾數均等於 0。
(6 分)

(三)當一組資料之全距愈大，則平均數、中位數、眾數也愈大。(6 分)

(四)當一組資料呈單峰右偏分配，則平均數小於中位數與眾數。(7 分)

二、經調查得出機車每公升耗油量行駛之距離之平均值為 38.5 公里，標準差為 6 公里；有甲、乙兩廠商研發出機車省油裝置，甲廠商之裝置可使每公升行駛距離增加 3.5 公里，乙廠商之裝置可使每公升行駛距離提升 17%，試回答下列問題：

(一)裝設甲廠商省油裝置後，機車每公升耗油量可行駛距離之平均值與標準差。(5 分)

(二)裝設乙廠商省油裝置後，機車每公升耗油量可行駛距離之平均值與標準差。(5 分)

三、調查 A、B 兩條公車路線之誤點情形，發現路線 A 誤點之機率為 0.65，路線 B 誤點之機率為 0.6，同一天兩條公車路線同時誤點之機率為 0.48，試回答下列問題：

(一)上個月任一天至少有一條路線誤點之機率。(5 分)

(二)給定某一天路線 A 準點的條件之下，試問當天路線 B 亦準點之機率。(5 分)

(三)給定某一天路線 B 誤點的條件之下，試問當天路線 A 準點之機率。
(5 分)

- 四、一電池製造商宣稱其生產之電池充電後可讓電動車行駛超過 500 公里，購買者懷疑製造商之宣稱過於誇張。若已知行駛里程數為常態分配，且標準差為 26 公里，今抽驗 25 部電動車，得其樣本平均數為 490 公里，在 1% 之顯著水準下，欲檢定電池製造商之宣稱是否合理。
- (一)試寫出虛無假設與對立假設。(5 分)
 - (二)試寫出檢定統計量及結論。(10 分)
 - (三)若樣本增加為 49 部，樣本平均數仍為 490 公里，試檢定電池製造商之宣稱是否合理。(10 分)

- 五、欲了解某地區之交通事故件數 (Z) 是否與該區臨檢次數 (X) 和違規件數 (Y) 有關，今蒐集 19 組資料構建下列線性迴歸模式， $\hat{Z} = 3.0 - 1.8X + 0.25Y$ ，各參數估計值之標準誤為 1.5, 0.5, 0.3，另外得出部分變異數分析 (ANOVA) 表如下：

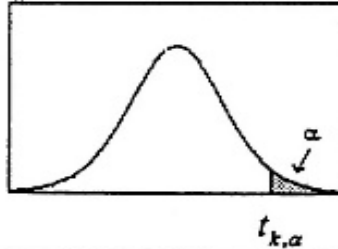
變異來源	平方和 (SS)
迴歸	40
殘差	32

在 $\alpha = 0.05$ 時，

- (一)試說明該模式中，X 的參數估計值之意義。(6 分)
- (二)試檢定該模式是否顯著。(6 分)
- (三)試求該模式中 X、Y 對應之 t 值，並分別檢定 X、Y 之係數是否顯著。(6 分)
- (四)試求 Z 的變異被該模式解釋的程度。(7 分)

t分配表

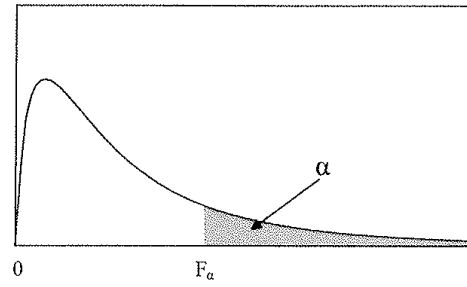
$$P(t_k \geq t_{k,\alpha}) = \alpha$$



自由度	單尾顯著水準						
	0.1	0.05	0.025	0.01	0.005	0.0025	0.001
1	3.0777	6.3138	12.7062	31.8205	63.6567	127.3213	318.3088
2	1.8856	2.9200	4.3027	6.9646	9.9248	14.0890	22.3271
3	1.6377	2.3534	3.1824	4.5407	5.8409	7.4533	10.2145
4	1.5332	2.1318	2.7764	3.7469	4.6041	5.5976	7.1732
5	1.4759	2.0150	2.5706	3.3649	4.0321	4.7733	5.8934
6	1.4398	1.9432	2.4469	3.1427	3.7074	4.3168	5.2076
7	1.4149	1.8946	2.3646	2.9980	3.4995	4.0293	4.7853
8	1.3968	1.8595	2.3060	2.8965	3.3554	3.8325	4.5008
9	1.3830	1.8331	2.2622	2.8214	3.2498	3.6897	4.2968
10	1.3722	1.8125	2.2281	2.7638	3.1693	3.5814	4.1437
11	1.3634	1.7959	2.2010	2.7181	3.1058	3.4966	4.0247
12	1.3562	1.7823	2.1788	2.6810	3.0545	3.4284	3.9296
13	1.3502	1.7709	2.1604	2.6503	3.0123	3.3725	3.8520
14	1.3450	1.7613	2.1448	2.6245	2.9768	3.3257	3.7874
15	1.3406	1.7531	2.1314	2.6025	2.9467	3.2860	3.7328
16	1.3368	1.7459	2.1199	2.5835	2.9208	3.2520	3.6862
17	1.3334	1.7396	2.1098	2.5669	2.8982	3.2224	3.6458
18	1.3304	1.7341	2.1009	2.5524	2.8784	3.1966	3.6105
19	1.3277	1.7291	2.0930	2.5395	2.8609	3.1737	3.5794
20	1.3253	1.7247	2.0860	2.5280	2.8453	3.1534	3.5518
21	1.3232	1.7207	2.0796	2.5176	2.8314	3.1352	3.5272
22	1.3212	1.7171	2.0739	2.5083	2.8188	3.1188	3.5050
23	1.3195	1.7139	2.0687	2.4999	2.8073	3.1040	3.4850
24	1.3178	1.7109	2.0639	2.4922	2.7969	3.0905	3.4668
25	1.3163	1.7081	2.0595	2.4851	2.7874	3.0782	3.4502
26	1.3150	1.7056	2.0555	2.4786	2.7787	3.0669	3.4350
27	1.3137	1.7033	2.0518	2.4727	2.7707	3.0565	3.4210
28	1.3125	1.7011	2.0484	2.4671	2.7633	3.0469	3.4082
29	1.3114	1.6991	2.0452	2.4620	2.7564	3.0380	3.3962
30	1.3104	1.6973	2.0423	2.4573	2.7500	3.0298	3.3852
35	1.3062	1.6896	2.0301	2.4377	2.7238	2.9960	3.3400
40	1.3031	1.6839	2.0211	2.4233	2.7045	2.9712	3.3069
45	1.3006	1.6794	2.0141	2.4121	2.6896	2.9521	3.2815
50	1.2987	1.6759	2.0086	2.4033	2.6778	2.9370	3.2614
60	1.2958	1.6706	2.0003	2.3901	2.6603	2.9146	3.2317
70	1.2938	1.6669	1.9944	2.3808	2.6479	2.8987	3.2108
80	1.2922	1.6641	1.9901	2.3739	2.6387	2.8870	3.1953
90	1.2910	1.6620	1.9867	2.3685	2.6316	2.8779	3.1833
100	1.2901	1.6602	1.9840	2.3642	2.6259	2.8707	3.1737
200	1.2858	1.6525	1.9719	2.3451	2.6006	2.8385	3.1315
300	1.2844	1.6499	1.9679	2.3388	2.5923	2.8279	3.1176
400	1.2837	1.6487	1.9659	2.3357	2.5882	2.8227	3.1107
500	1.2832	1.6479	1.9647	2.3338	2.5857	2.8195	3.1066
600	1.2830	1.6474	1.9639	2.3326	2.5840	2.8175	3.1039
700	1.2828	1.6470	1.9634	2.3317	2.5829	2.8160	3.1019
800	1.2826	1.6468	1.9629	2.3310	2.5820	2.8148	3.1005
900	1.2825	1.6465	1.9626	2.3305	2.5813	2.8140	3.0993
1000	1.2824	1.6464	1.9623	2.3301	2.5808	2.8133	3.0984

F 分配臨界值表

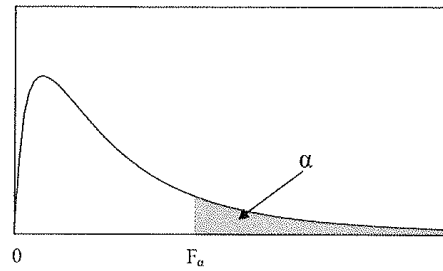
$$P(F > F_\alpha) = \alpha$$



$\nu_2(df)$	$\nu_1(df)$								
	1	2	3	4	5	6	7	8	9
	$\alpha = 0.05$								
1	161.45	199.50	215.71	224.58	230.16	233.99	236.77	238.88	240.54
2	18.51	19.00	19.16	19.25	19.30	19.33	19.35	19.37	19.38
3	10.13	9.55	9.28	9.12	9.01	8.94	8.89	8.85	8.81
4	7.71	6.94	6.59	6.39	6.26	6.16	6.09	6.04	6.00
5	6.61	5.79	5.41	5.19	5.05	4.95	4.88	4.82	4.77
6	5.99	5.14	4.76	4.53	4.39	4.28	4.21	4.15	4.10
7	5.59	4.74	4.35	4.12	3.97	3.87	3.79	3.73	3.68
8	5.32	4.46	4.07	3.84	3.69	3.58	3.50	3.44	3.39
9	5.12	4.26	3.86	3.63	3.48	3.37	3.29	3.23	3.18
10	4.96	4.10	3.71	3.48	3.33	3.22	3.14	3.07	3.02
11	4.84	3.98	3.59	3.36	3.20	3.09	3.01	2.95	2.90
12	4.75	3.89	3.49	3.26	3.11	3.00	2.91	2.85	2.80
13	4.67	3.81	3.41	3.18	3.03	2.92	2.83	2.77	2.71
14	4.60	3.74	3.34	3.11	2.96	2.85	2.76	2.70	2.65
15	4.54	3.68	3.29	3.06	2.90	2.79	2.71	2.64	2.59
16	4.49	3.63	3.24	3.01	2.85	2.74	2.66	2.59	2.54
17	4.45	3.59	3.20	2.96	2.81	2.70	2.61	2.55	2.49
18	4.41	3.55	3.16	2.93	2.77	2.66	2.58	2.51	2.46
19	4.38	3.52	3.13	2.90	2.74	2.63	2.54	2.48	2.42
20	4.35	3.49	3.10	2.87	2.71	2.60	2.51	2.45	2.39
21	4.32	3.47	3.07	2.84	2.68	2.57	2.49	2.42	2.37
22	4.30	3.44	3.05	2.82	2.66	2.55	2.46	2.40	2.34
23	4.28	3.42	3.03	2.80	2.64	2.53	2.44	2.37	2.32
24	4.26	3.40	3.01	2.78	2.62	2.51	2.42	2.36	2.30
25	4.24	3.39	2.99	2.76	2.60	2.49	2.40	2.34	2.28
26	4.23	3.37	2.98	2.74	2.59	2.47	2.39	2.32	2.27
27	4.21	3.35	2.96	2.73	2.57	2.46	2.37	2.31	2.25
28	4.20	3.34	2.95	2.71	2.56	2.45	2.36	2.29	2.24
29	4.18	3.33	2.93	2.70	2.55	2.43	2.35	2.28	2.22
30	4.17	3.32	2.92	2.69	2.53	2.42	2.33	2.27	2.21
40	4.08	3.23	2.84	2.61	2.45	2.34	2.25	2.18	2.12
60	4.00	3.15	2.76	2.53	2.37	2.25	2.17	2.10	2.04
120	3.92	3.07	2.68	2.45	2.29	2.18	2.09	2.02	1.96
∞	3.84	3.00	2.60	2.37	2.21	2.10	2.01	1.94	1.88

F 分配臨界值表

$$P(F > F_{\alpha}) = \alpha$$



$\nu_2(df)$	$\nu_1(df)$								
	1	2	3	4	5	6	7	8	9
	$\alpha = 0.025$								
1	647.79	799.48	864.15	899.60	921.83	937.11	948.20	956.64	963.28
2	38.51	39.00	39.17	39.25	39.30	39.33	39.36	39.37	39.39
3	17.44	16.04	15.44	15.10	14.88	14.73	14.62	14.54	14.47
4	12.22	10.65	9.98	9.60	9.36	9.20	9.07	8.98	8.90
5	10.01	8.43	7.76	7.39	7.15	6.98	6.85	6.76	6.68
6	8.81	7.26	6.60	6.23	5.99	5.82	5.70	5.60	5.52
7	8.07	6.54	5.89	5.52	5.29	5.12	4.99	4.90	4.82
8	7.57	6.06	5.42	5.05	4.82	4.65	4.53	4.43	4.36
9	7.21	5.71	5.08	4.72	4.48	4.32	4.20	4.10	4.03
10	6.94	5.46	4.83	4.47	4.24	4.07	3.95	3.85	3.78
11	6.72	5.26	4.63	4.28	4.04	3.88	3.76	3.66	3.59
12	6.55	5.10	4.47	4.12	3.89	3.73	3.61	3.51	3.44
13	6.41	4.97	4.35	4.00	3.77	3.60	3.48	3.39	3.31
14	6.30	4.86	4.24	3.89	3.66	3.50	3.38	3.29	3.21
15	6.20	4.77	4.15	3.80	3.58	3.41	3.29	3.20	3.12
16	6.12	4.69	4.08	3.73	3.50	3.34	3.22	3.12	3.05
17	6.04	4.62	4.01	3.66	3.44	3.28	3.16	3.06	2.98
18	5.98	4.56	3.95	3.61	3.38	3.22	3.10	3.01	2.93
19	5.92	4.51	3.90	3.56	3.33	3.17	3.05	2.96	2.88
20	5.87	4.46	3.86	3.51	3.29	3.13	3.01	2.91	2.84
21	5.83	4.42	3.82	3.48	3.25	3.09	2.97	2.87	2.80
22	5.79	4.38	3.78	3.44	3.22	3.05	2.93	2.84	2.76
23	5.75	4.35	3.75	3.41	3.18	3.02	2.90	2.81	2.73
24	5.72	4.32	3.72	3.38	3.15	2.99	2.87	2.78	2.70
25	5.69	4.29	3.69	3.35	3.13	2.97	2.85	2.75	2.68
26	5.66	4.27	3.67	3.33	3.10	2.94	2.82	2.73	2.65
27	5.63	4.24	3.65	3.31	3.08	2.92	2.80	2.71	2.63
28	5.61	4.22	3.63	3.29	3.06	2.90	2.78	2.69	2.61
29	5.59	4.20	3.61	3.27	3.04	2.88	2.76	2.67	2.59
30	5.57	4.18	3.59	3.25	3.03	2.87	2.75	2.65	2.57
40	5.42	4.05	3.46	3.13	2.90	2.74	2.62	2.53	2.45
60	5.29	3.93	3.34	3.01	2.79	2.63	2.51	2.41	2.33
120	5.15	3.80	3.23	2.89	2.67	2.52	2.39	2.30	2.22
∞	5.02	3.69	3.12	2.79	2.57	2.41	2.29	2.19	2.11