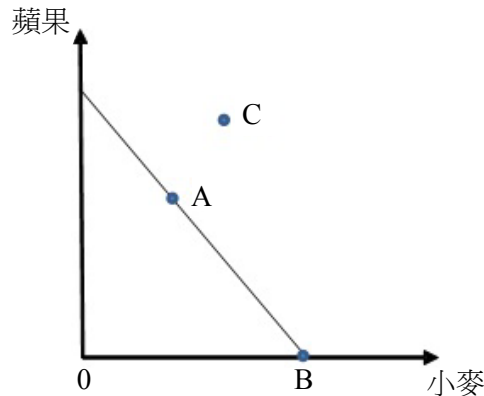


等 別：初等考試
類 科：經建行政
科 目：經濟學大意
考試時間：1 小時

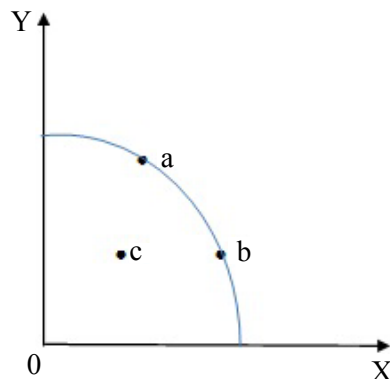
座號：_____

※注意：(一)本試題為單選題，請選出一個正確或最適當的答案，複選作答者，該題不予計分。
(二)本科目共 50 題，每題 2 分，須用 2B 鉛筆在試卡上依題號清楚劃記，於本試題上作答者，不予計分。
(三)禁止使用電子計算器。

- 1 丁丁修理 1 部腳踏車要花 2 小時，修理 1 台電腦要花 4 小時。下列敘述何者正確？
(A)丁丁的比較利益是修腳踏車 (B)丁丁的比較利益是修電腦
(C)修電腦是丁丁的絕對利益 (D)丁丁修 1 台電腦的機會成本是修 2 台腳踏車
- 2 甲國生產 1 個 X 財需要 5 個勞動，生產 1 個 Y 財需要 8 個勞動；乙國生產 1 個 X 財需要 4 個勞動，生產 1 個 Y 財需要 1 個勞動。2 國之總勞動量分別是 $L_{甲}=40$ ， $L_{乙}=10$ 。如果 2 國互相貿易後甲國消費 6 個 X 財 3 個 Y 財，表示甲國：
(A)出口 2 個 X 財，進口 3 個 Y 財 (B)出口 3 個 Y 財，進口 6 個 X 財
(C)出口 3 個 Y 財，進口 2 個 X 財 (D)出口 2 個 Y 財，進口 3 個 X 財
- 3 下圖為某國之生產可能線。假設該國開放貿易前的生產點為 A 點，開放貿易後根據比較利益法則決定專業化生產小麥，生產點為 B 點，且消費點為 C 點。則下列敘述何者錯誤？



- (A)該國開放貿易後的消費點 (C 點) 為其目前無法達成之生產點
(B)該國不一定具有生產小麥的絕對利益
(C)該國之貿易對手國整體而言會蒙受損失
(D)該國出口小麥、進口蘋果
- 4 假設一國生產 X 及 Y 兩種財貨，其生產可能曲線如下圖所示。生產點如何移動，會使得生產 Y 的機會成本上升？



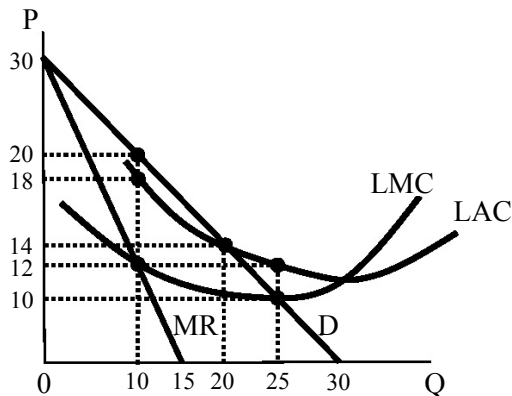
- (A)b 點移動到 a 點 (B)b 點移動到 c 點 (C)a 點移動到 b 點 (D)a 點移動到 c 點
- 5 所謂自由貿易協定是指簽約國間去除彼此貿易障礙，而對非簽約國：
(A)完全去除彼此貿易障礙 (B)局部去除彼此貿易障礙
(C)仍維持彼此貿易障礙 (D)先去除障礙，日後再恢復
- 6 純就替代效果來看，某產品價格的下跌，將造成該物品的需求量：
(A)增加 (B)不變 (C)減少 (D)不一定
- 7 假設市場需求線為 $P=100-2Q$ 。當市場均衡價格為 50 時，消費者剩餘為：
(A)150 (B)525 (C)625 (D)650

- 8 下列何項為有約束力的價格管制政策？
 (A)低於勞動市場均衡價格的最低工資管制 (B)低於稻米市場均衡價格的稻米保證收購價格
 (C)低於租屋市場均衡價格的房租租金上限 (D)高於油品市場均衡價格的油價上限
- 9 假設其他條件不變，若某財貨的市場需求函數為 $Q_d=100-0.5P$ ，則在該需求曲線上某一點的需求價格點彈性 $\varepsilon_d=-1$ 時，其對應的：
 (A)需求量 = 50，價格 = 100 (B)需求量 = 100，價格 = 50
 (C)需求量 = 100，價格 = 0 (D)需求量 = 0，價格 = 200
- 10 追求利潤極大的獨占者，其增產的條件為何？
 (A)邊際收益小於邊際成本 (B)平均收益小於平均成本
 (C)邊際收益大於邊際成本 (D)平均收益大於平均成本
- 11 假設其他條件不變，下列何者不會造成某特定財貨的市場需求變動？
 (A)該特定財貨市場價格波動 (B)消費者平均所得大幅增加
 (C)該特定財貨的消費者人數增加 (D)與該財貨高度相關之財貨價格波動
- 12 假設其他條件不變，關於需求價格彈性，下列敘述何者錯誤？
 (A)不管汽油價格如何變動，你每次加油的金額都一樣，則你對汽油的需求價格彈性是單位彈性
 (B)不管汽油價格如何變動，你每次加油的公升數都一樣，則你對汽油的需求價格彈性是單位彈性
 (C)不管汽油價格如何變動，你每次加油的公升數都一樣，則你對汽油的需求價格彈性是完全無彈性
 (D)只要汽油價格些微上漲，你就立刻停止加油，則你對汽油的需求價格彈性是完全有彈性
- 13 假設一個追求效用最大的消費者同時選取 10 種商品，且每種商品的邊際效用均為正值。這 10 種商品中最多可以有幾種劣等財？
 (A)1 種 (B)8 種 (C)9 種 (D)10 種
- 14 假設 x 為某財貨的消費量，當白小姐的效用函數為下列何者時，其效用會隨消費量增加而減少？
 (A) $U(x)=4-x$ (B) $U(x)=3+x$ (C) $U(x)=x^2$ (D) $U(x)=e^{2x}$
- 15 假設白先生選擇消費金額及休閒時數以達到滿足程度最大，且消費金額及休閒對白先生而言都為正常品。現政府對白先生的每小時工資課徵 2 元的補充保費。在其他條件不變下，白先生的替代效果為：
 (A)增加消費金額及休閒時數 (B)增加消費金額，但減少休閒時數
 (C)減少消費金額，但增加休閒時數 (D)減少消費金額及休閒時數
- 16 假設供需法則成立，在其他條件不變下，若種植香蕉所需的肥料價格上揚，則消費者總剩餘會：
 (A)增加 (B)不變 (C)減少 (D)資訊不足，無法判斷
- 17 在一般狀況下，邊際成本線 (MC) 會先後通過何處？
 (A)先通過平均成本 AC 的最低點，再通過平均變動成本 AVC 的最低點
 (B)先通過平均變動成本 AVC 的最低點，再通過平均成本 AC 的最低點
 (C)先通過平均變動成本 AVC 的最高點，再通過平均成本 AC 的最高點
 (D)先通過平均成本 AC 的最高點，再通過平均變動成本 AVC 的最高點
- 18 下列那項財貨必具有共享性 (non-rivalry) 的特性？
 (A)正常財 (B)劣等財 (C)私有財 (D)公共財
- 19 下表為 4 種不同生產規模的平均成本，在長期，當廠商規劃產量介於那一個範圍之間時，應該選擇規模二？

產量	平均成本			
	規模一	規模二	規模三	規模四
1,500	10	15	20	30
2,000	8	12	17	25
2,500	9	10	15	20
3,000	12	8	13	18
3,500	15	6	11	16
4,000	18	10	9	14
4,500	20	12	7	12
5,000	24	15	11	10
5,500	29	19	13	8
6,000	35	25	15	9

- (A)低於 3,000 (B)3,000 到 4,000 (C)4,000 到 5,000 (D)5,000 到 6,000
- 20 假設其他條件不變，個別廠商供給量是指在不同價格下，其：
 (A)願意生產的數量 (B)能夠生產的數量
 (C)願意且能夠生產的數量 (D)願意、能夠、且實際生產的數量

- 21 在長期均衡時，完全競爭廠商皆無法賺取超額利潤，主要是因為何種原因？
(A)產品同質 (B)廠商家數多 (C)完全訊息 (D)廠商可以自由進出市場
- 22 假設市場為完全競爭，市場的需求線為 $P=8-Q$ ，廠商的生產成本函數為 $C(Q)=Q$ ，則在均衡時，下列何者正確？
(A)廠商的邊際成本為 2 (B)廠商的平均固定成本為 Q
(C)廠商的邊際收益為 1 (D)廠商的均衡產量為 8
- 23 下列選項中，那一種產品市場最接近獨占性競爭？
(A)汽油市場 (B)電信市場 (C)珍珠奶茶市場 (D)水泥市場
- 24 下圖顯示某獨占廠商的長期平均成本線(LAC)、長期邊際成本線(LMC)、市場需求線(D)以及邊際收益線(MR)。若沒有政府管制，則該廠商的最大利潤為：



- (A)20 (B)80 (C)100 (D)150
- 25 承上題，若政府考慮管制此廠商，則下列敘述何者錯誤？
(A)若政府採用平均成本訂價法，廠商的經濟利潤為零
(B)若政府採用平均成本訂價法，社會沒有福利損失
(C)若政府採用邊際成本訂價法，廠商會有虧損
(D)若政府採用邊際成本訂價法，需付出補貼
- 26 增加僱用一名麵包師傅幫麵包店創造的價值等於：
(A)麵包的價格 (B)麵包師傅的邊際產量
(C)麵包師傅的邊際產量減去麵包的邊際成本 (D)麵包師傅的邊際產量乘上麵包的價格
- 27 若從支出面計算 GDP，不包括下列那一項？
(A)原物料的出口值 (B)機器的出口值 (C)公務員薪資 (D)利潤
- 28 下列何者是中間財？
(A)出口的手機 (B)出口的手機鏡頭 (C)進口的手機鏡頭 (D)機器人
- 29 下列何者為我國 GDP 最大的組成項目？
(A)民間消費 (B)民間投資 (C)政府消費與投資 (D)出口淨額
- 30 下表為某國的勞動資料。根據該表，該國的勞動力：

年	2009	2010	2011
民間人口	2,000	3,000	3,200
就業人口	1,400	1,600	1,500
失業人口	200	600	500

- (A)從 2009 年到 2010 年是增加的，從 2010 年到 2011 年也是增加的
(B)從 2009 年到 2010 年是增加的，從 2010 年到 2011 年是減少的
(C)從 2009 年到 2010 年是減少的，從 2010 年到 2011 年是增加的
(D)從 2009 年到 2010 年是減少的，從 2010 年到 2011 年也是減少的
- 31 承上題。該國的非勞動力 (not in the labor force)：
(A)從 2009 年到 2010 年是增加的，從 2010 年到 2011 年也是增加的
(B)從 2009 年到 2010 年是增加的，從 2010 年到 2011 年是減少的
(C)從 2009 年到 2010 年是減少的，從 2010 年到 2011 年是增加的
(D)從 2009 年到 2010 年是減少的，從 2010 年到 2011 年也是減少的
- 32 臺灣消費者物價指數的編制是由下列那一個單位負責？
(A)經濟部 (B)行政院主計總處
(C)國家發展委員會 (D)經濟部與內政部共同負責

- 33 在充分就業下，下列敘述何者正確？
 (A)失業率為零 (B)循環性失業為零 (C)結構性失業為零 (D)摩擦性失業為零
- 34 下列關於家計單位消費的敘述，何者正確？
 (A)高所得家庭的邊際消費傾向比低所得家庭高，平均消費傾向比低所得家庭低
 (B)高所得家庭的邊際消費傾向比低所得家庭低，平均消費傾向比低所得家庭高
 (C)高所得家庭的邊際消費傾向與平均消費傾向都比低所得家庭低
 (D)高所得家庭的邊際消費傾向與平均消費傾向都比低所得家庭高
- 35 某一封閉經濟體系僅有自發性投資，而政府稅收除了自發性稅收外，且每 1 元所得，政府課徵 0.2 元的稅。如果此一經濟體系的財政單位增加了 1,000 億元的政府支出，該國的均衡水準會增加 1,250 億元，則該國的邊際消費傾向等於多少？
 (A)0.25 (B)0.45 (C)0.5 (D)0.75
- 36 若某一經濟體系的物價在短期具有完全僵固性，則下列敘述何者正確？
 (A)該國的總需求曲線為水平線 (B)該國的短期總產出由總需求決定
 (C)貨幣中立性在該國短期是成立的 (D)該國短期總產出等於充分就業產出
- 37 下列為某一封閉經濟體系的資料： $C=C_0+0.8(Y-T)$ ， $I=I_0$ ， $G=G_0$ ， $T=T_0$ 。假設該經濟體系目前的均衡所得為 2,000 單位，若要達到充分就業，政府支出必須再增加 200 單位，則該經濟體系充分就業時的所得水準為多少單位？
 (A)2,200 (B)2,500 (C)3,000 (D)3,200
- 38 下列財政統計當中，何者最常隨一國經濟景氣的起伏而作同向之變動？
 (A)政府支出 (B)整體稅收 (C)財政赤字 (D)政府公債
- 39 如果中央銀行要實施擴張型的貨幣政策來刺激景氣，可以採用下列那一種政策？
 (A)提高存款準備率 (B)提高重貼現率 (C)擴大公開市場買入 (D)選擇性信用管制
- 40 下列那一項不會計入「貨幣供給」中？
 (A)紙鈔金額 (B)硬幣金額 (C)活期存款金額 (D)信用卡額度金額
- 41 下列有關金融市場的敘述，何者錯誤？
 (A)流通市場較發行市場不重要 (B)流通市場具有提供資產變現的功能
 (C)不動產證券化之後，房子的價格可能會上升 (D)公債的流動性較一般公司債的流動性高
- 42 假設其他條件不變，若「貨幣中立性」成立，則貨幣數量改變，會造成：
 (A)實質所得改變，但物價水準不變 (B)物價水準改變，但實質所得不變
 (C)物價水準和實質所得都改變 (D)物價水準和實質所得都不變
- 43 關於政府消費性支出乘數的敘述，下列何者錯誤？
 (A)其他條件相同，邊際儲蓄傾向越高，政府消費性支出乘數越低
 (B)其他條件相同，在封閉體系且政府只課定額稅下，政府消費性支出乘數大於邊際儲蓄傾向的倒數
 (C)其他條件相同，所得稅的邊際稅率越高，政府消費性支出乘數越低
 (D)其他條件相同，開放經濟體系下政府消費性支出的乘數會比封閉體系下的政府消費性支出乘數來得小
- 44 在景氣復甦的期間，下列敘述何者正確？
 (A)求職者變多，大學生應屆畢業生更不易找到工作 (B)失業率上升
 (C)實質工資下降 (D)失業平均週數縮短
- 45 當景氣下滑時，中央銀行可以採用那一項反景氣循環政策？
 (A)減少公開市場賣出 (B)減少公開市場買入 (C)提高存款準備率 (D)提高重貼現率
- 46 下列那一項對於提升一國的長期經濟成長率沒有直接的貢獻？
 (A)生產技術進步 (B)勞動生產力上升 (C)每人資本使用量提高 (D)貨幣供給增加
- 47 關於實質匯率，下列敘述何者正確？
 (A)實質匯率是外國貨幣與本國貨幣的兌換比率 (B)實質匯率是外國商品與本國商品的兌換比率
 (C)實質匯率是外國貨幣與本國商品的兌換比率 (D)實質匯率是外國商品與本國貨幣的兌換比率
- 48 若公車票價調高後，公車業者收入不變，表示消費者對公車服務需求的價格彈性：
 (A)等於零 (B)小於一 (C)等於一 (D)大於一
- 49 窮國的資本比較少，在資本邊際報酬遞減的假設下，窮國的資本邊際報酬會比較高，所以資金應該流向窮國才對，但實際上資本通常都是流向富國，而不是窮國。下列何者不是可能的理由？
 (A)窮國總要素生產力比較低 (B)窮國財產權的保護比較差
 (C)窮國人口比較多 (D)富國制度比較健全
- 50 對生產基地主要在臺灣的臺灣廠商和生產基地主要在國外的臺灣廠商的 2 個廠商而言，何者比較希望得到臺灣中央銀行在匯率上的協助（譬如新臺幣升值或貶值）？
 (A)生產基地主要在臺灣的臺灣廠商 (B)生產基地主要在國外的臺灣廠商
 (C)2 家都希望 (D)2 家都不希望