













中華電信股份有限公司 98 年新進從業人員遴選試題

專業科目(二)：寬頻網路與無線通信技術

入場通知書號碼：_____

注意：①本試卷一張雙面，分為單選選擇題 30 題、問答題二大題；答錯不倒扣，未作答者，不予計分。
 ②單選選擇題請選出最適當答案，限用 2B 鉛筆在「答案卡」上作答；非選擇題一律採「橫式」由左至右在「答案卷」上依序標明題號作答，不必抄題。
 ③應考人得自備僅具數字鍵 0~9 及 + - x ÷ √ % =             功能之簡易型計算機應試。
 ④答案卡及答案卷務必一併繳回，違者該科以零分計算。

壹、單選選擇題 (每題 2 分)

- 【4】** 1.下列何種通訊調變技術不是第三代行動通訊系統(3G)發展的主流技術？
 ① W-CDMA (寬頻分碼多重擷取) ② CDMA2000 (分碼多重擷取 2000)
 ③ TDS-CDMA(同步分碼多重擷取) ④ OFDM (正交分頻多工)
- 【2】** 2.下列哪個協定是針對 IEEE 802.11 所定義的無線區域網路所設計，以提昇通訊安全性的協定？
 ① 802.11e ② 802.11i ③ 802.11n ④ 802.11s
- 【1】** 3.可延伸鑑別協定(Extensible Authentication Protocol, EAP)中，哪種機制所提供的安全等級最低？
 ① MD-5 ② PEAP (Protected EAP)
 ③ TLS (Transport Layer Security) ④ TTLS(Tunneled TLS)
- 【3】** 4.衛星通訊所使用的下列哪一個波段會遭遇到較嚴重的雨衰現象？
 ① C 波段 ② Ku 波段 ③ Ka 波段 ④ X 波段
- 【1】** 5.何種衛星運行軌道較適合提供作為全球定位系統之衛星使用？
 ①低軌道 ②中軌道 ③高軌道 ④地球同步衛星運行軌道
- 【1】** 6.下列有關無線感測器網路之敘述，何者正確？
 ①由微小精密可拆、組與低功率裝置或元件所組成
 ②由不可拆組的高功率裝置或元件所組成
 ③由網路安全入侵偵測系統所組成
 ④由無線寬頻網路所組成
- 【3】** 7.下列哪一種無線通訊屬於短距高頻寬的通訊？
 ①藍芽(Blue Tooth) ②電磁感應
 ③超寬頻 (Ultra-wideband) ④ 802.15.4 ZigBee
- 【1】** 8.電路交換 (Circuit switching) 技術比起封包交換技術，其缺點為何？
 ①通訊通道或線路使用效能較低
 ②資料傳輸容易堵塞
 ③資料傳輸錯誤率較高
 ④資料會切割成很多小型的封包，在網路上傳輸容易漏失
- 【2】** 9.一個藍芽的 Piconet 系統，最多可以支援幾個裝置進行通訊？
 ① 3 ② 8 ③ 10 ④ 65536
- 【4】** 10.下列有關 ZigBee 之敘述，何者錯誤？
 ①功能元件 (Full Function Device, FFD) 扮演 coordinator (協調器) 或 router 的角色
 ②每個網路中僅能存在一個 ZigBee coordinator
 ③ ZigBee coordinator 可當做網路樹狀結構的根節點
 ④ ZigBee router 負責建立網路並啟動頻道選擇、唯一網路識別與操作參數設定等相關程序
- 【4】** 11.假設某一個 Wi-Fi 天線增益值為 6dB 的有效通訊距離為 100 公尺，當此天線的增益值提升至 12dB 時，請問此天線的有效通訊距離為多少？
 ① 25 公尺 ② 50 公尺 ③ 200 公尺 ④ 400 公尺
- 【3】** 12.請問 QAM(Quadrature amplitude modulation)是哪二種調變技術的組合？
 ① ASK (幅移鍵控) 和 FSK (頻移鍵控) 結合 ② FSK 與 PSK (相移鍵控) 結合
 ③ ASK 與 PSK 結合 ④ PSK 與 OOK (On-off keying) 結合

- 【3】** 13.假設給定調變訊號 $S_i=A*\cos(2\pi ft+\theta_i)$, $i=1\sim M/2\pi$ ，請問此訊號使用哪種調變技術？
 ① ASK (幅移鍵控) ② FSK (頻移鍵控) ③ PSK (相移鍵控) ④ OOK (On-off keying)
- 【2】** 14.下列何者不屬於通訊協定的關鍵特徵？
 ①語法(Syntax) ②極性(Polarization) ③時序(Timing) ④語義(Semantics)
- 【3】** 15.下列何種 xDSL 的資料傳輸率最高 (包含上行與下行)？
 ① ADSL ② HDSL ③ VDSL ④ SDSL
- 【1】** 16.下列有關非同步傳輸模式(ATM)的敘述，何者錯誤？
 ① ATM 是美國聯邦通訊委員會(FCC) 所制定的高速網路傳輸協定
 ② ATM 是封包交換通訊協定技術之一
 ③ ATM 是 ANSI 和國際電信聯盟(ITU)所認可為寬頻整體服務數位網路(B-ISDN)的基礎
 ④非同步傳輸模式適應層對於不同速率服務等級可區分成固定速率 (CBR)、可變速率 (VBR)、備便速率 (ABR)、不指定速率 (UBR) 和最小細包速率 (MCR)
- 【2】** 17.在個人通訊服務 (personal communication services, PCS) 系統中所採用的高階標準，不包含下列哪一項基礎？
 ① DCS (digital communications system) ② DECT(digital European cordless telecommunications)
 ③ IS-54 ④ IS-95
- 【1】** 18.無線通訊中多重路徑信號因時間的延遲會產生何種干擾現象？
 ①符號間 (inter-symbol interference, ISI) 干擾 ②共通道 (co-channel) 干擾
 ③假名干擾 (alias interference) ④電磁輻射干擾 (EMI)
- 【4】** 19.自動重傳請求 (automatic repeat request, ARQ) 處理技術，不包含下列何者？
 ① Stop-and-Wait ARQ (停止並等待重傳) ② Go-Back-N ARQ (後退 N 重傳)
 ③ Select repeat ARQ (選擇重傳) ④ Immediate repeat ARQ (立即重傳)
- 【1】** 20.全球定位系統使用哪一個頻段？
 ① 1.227 GHz 和 1.57542GHz ② 1.85~1.91GHz
 ③ 2.4~2.5GHz ④ 902~928MHz
- 【4】** 21.下列何者非屬於 TCP/IP 之網路層(Network Layer)中所使用的協定？
 ① DHCP(動態主機組態協定) ② ICMP(網際網路控制訊息協定)
 ③ IGMP(網際網路群組管理協定) ④ SMTP(簡單郵件傳遞協定)
- 【3】** 22.下列何者不是網際網路所使用的選路協定(routing protocol)？
 ① OSPF ② EIGRP ③ ICMP ④ RIPv2
- 【4】** 23.建立、變更和終止會談所使用的會談初始協定 (session initiation protocol, SIP) 是屬於 TCP/IP 協定組中哪一層協定？
 ①實體層 ②資料連結層 ③傳輸層 ④應用層
- 【4】** 24.下列何者不是網路的服務品質 (QoS) 所定義的參數？
 ①頻寬 ②延遲 (latency) 和顫動 (jitter)
 ③封包遺失 ④通訊調變技術
- 【1】** 25.有關超寬頻 (ultra wide-band) 技術的敘述，下列何者錯誤？
 ①超寬頻的資料傳輸速率極高，非常適合做為 WAN 區網的建置
 ②超寬頻屬於時間域的概念，因此不需要載波做調變
 ③超寬頻訊號被偵測的機率相對較低
 ④超寬頻具有較佳的多重路徑免疫能力
- 【4】** 26.下列何項非屬密碼加密邏輯演算法？
 ①串流密碼 (stream cipher) ②區塊密碼 (block cipher)
 ③晶格為基的密碼 (lattice-based cipher) ④字元為基的密碼 (character-based cipher)

